







LECTIVO 2020
GUÍA DE APRENDIZAJE

SEDE	RAFAEL TELLO	PERIODO			
ESTUDIANTE		GRUPO	1 A	GUÍA No	02
ÁREA	MATEMATICAS	JORNADA	MAÑANA		
DOCENTE	MARY MELENJE	FECHA			
TIEMPO DE DESARROLLO	Hasta el día 11 de mayo.		DURACIÓN	15 horas	

METAS DE APRENDIZAJE	
Repaso de los números del 1 al 10, sumas, mayor que y menor que.	
EJES TEMÁTICOS	
AFIANZAMIENTO DE LOS NUMEROS 1 AL 10, LA DECENA Y SUMAS	
PREGUNTAS ESENCIALES	
¿Que números están antes del 20? ¿Qué números mayores a 8?	
EVIDENCIAS DE APRENDIZAJE (INDICADORES DE DESEMPEÑO)	
Reconoce, escribe y lee los numero de 1 a 10 Reconoce números mayores que y números menores que. Suma parejas de números.	
ACTIVIDADES	
Actividad 1	
Actividad 2	COMPLETA LA GUIA#2
Actividad 3	EN EL CUADERNO DE MATEMATICAS REALIZAR SUMAS HORIZONTALES Y VERTICALES
RECURSOS	
GUIAS ANEXADAS, LAPIZ, BORRADOR, COLORES, PLAN DE AULA GRADO PRIMERO	
CRITERIOS DE ENTREGA	
RELIZAR LAS ACTIVIDADES CON LA SUPERVISION DE LOS PADRES	
EVALUACIÓN	
LOS PADRES EVALUARAN A SUS HIJOS HACIANDO PREGUNTAS SENCILLAS SOBRE EL TEMA VISTO	
REFERENCIAS BIBLIOGRÁFICAS (BIOGRAFÍA Y/O WEBGRAFÍA)	
EXPERIENCIA PROFESONAL ,GOOGLE	

DESARROLLO DE ACTIVIDADES

ACTIVIDAD 1	
Escribe los números que faltan en los espacios vacíos.	
	
	
	
Números de 1 al 20, mira la imagen y repítelos con la ayuda de un familiar.	



LECTIVO 2020
GUÍA DE APRENDIZAJE



Ahora vamos a contar: Señala con una x, o escribe el numero, según la cantidad de figuras en cada recuadro.

				<input type="text"/>		
1 3 5 2	3 4 1 2	9 6 7 5	9 5 7 10			
4 5 2 3	7 5 1 4	12 11 14 15	13 14 12 11			
18 19 17 12	18 14 17 15	11 13 15 12	15 16 14 17			
19 17 18 16	21 20 19 18	15 16 14 17	18 17 15 16			


Ahora cuenta y repite el trazo, practicando los números del 11 al 15. (Pronunciarlos con los niños)



LECTIVO 2020
GUÍA DE APRENDIZAJE

	11	11	11	11	11
	12	12	12	12	12
	13	13	13	13	13
	14	14	14	14	14
	15	15	15	15	15

Cuantos animalitos hay de cada uno en el dibujo.



1	2	3	4	5	
6	7	8	9	10	
11	12	13	14	15	
16	17	18	19	20	

1	2	3	4	5	
6	7	8	9	10	
11	12	13	14	15	
16	17	18	19	20	

1	2	3	4	5	
6	7	8	9	10	
11	12	13	14	15	
16	17	18	19	20	

1	2	3	4	5	
6	7	8	9	10	
11	12	13	14	15	
16	17	18	19	20	

	<input type="text"/>		<input type="text"/>		<input type="text"/>
	<input type="text"/>		<input type="text"/>		<input type="text"/>

1	2	3	4	5	
6	7	8	9	10	
11	12	13	14	15	
16	17	18	19	20	

1	2	3	4	5	
6	7	8	9	10	
11	12	13	14	15	
16	17	18	19	20	

5 4 2 6 1 3

LECTIVO 2020
GUÍA DE APRENDIZAJE

ACTIVIDAD 2

Cuente los puntos y sume cuantos hay en total.

<input type="text"/>	+	<input type="text"/>	= <input type="text"/>
<input type="text"/>	+	<input type="text"/>	= <input type="text"/>
<input type="text"/>	+	<input type="text"/>	= <input type="text"/>
<input type="text"/>	+	<input type="text"/>	= <input type="text"/>


Con ayuda de palitos u otros elementos, realice las siguientes sumas:



SUMAS
 Con números de uno o dos dígitos,
 hasta el 20, sin llevadas.

1 $\begin{array}{r} 1 \\ + 6 \\ \hline \end{array}$	2 $\begin{array}{r} 7 \\ + 2 \\ \hline \end{array}$	3 $\begin{array}{r} 5 \\ + 4 \\ \hline \end{array}$	4 $\begin{array}{r} 2 \\ + 2 \\ \hline \end{array}$	5 $\begin{array}{r} 4 \\ + 3 \\ \hline \end{array}$
6 $\begin{array}{r} 10 \\ + 2 \\ \hline \end{array}$	7 $\begin{array}{r} 18 \\ + 1 \\ \hline \end{array}$	8 $\begin{array}{r} 14 \\ + 4 \\ \hline \end{array}$	9 $\begin{array}{r} 10 \\ + 5 \\ \hline \end{array}$	10 $\begin{array}{r} 6 \\ + 3 \\ \hline \end{array}$
11 $\begin{array}{r} 13 \\ + 6 \\ \hline \end{array}$	12 $\begin{array}{r} 11 \\ + 1 \\ \hline \end{array}$	13 $\begin{array}{r} 16 \\ + 3 \\ \hline \end{array}$	14 $\begin{array}{r} 15 \\ + 2 \\ \hline \end{array}$	15 $\begin{array}{r} 11 \\ + 7 \\ \hline \end{array}$

$4 + 4 = \square$	$1 + 5 = \square$
$3 + 3 = \square$	$4 + 3 = \square$
$2 + 0 = \square$	$3 + 5 = \square$
$6 + 1 = \square$	$8 + 1 = \square$
$1 + 3 = \square$	$3 + 6 = \square$
$2 + 4 = \square$	$0 + 9 = \square$
$0 + 1 = \square$	$2 + 7 = \square$
$5 + 2 = \square$	$2 + 1 = \square$



LECTIVO 2020
GUÍA DE APRENDIZAJE

1 decena 7 unidades	9+5	8
8 unidades	10 +7	14
1 decena 4 unidades	4+1	16
1 decena 6 unidades	6+2	17
5 unidades	8+8	5

Pinta del mismo color o une con una línea las columnas que se relacionan.

Recuerda que para sumar números con dos cifras, primero sumamos las unidades y después las decenas como en el ejemplo.

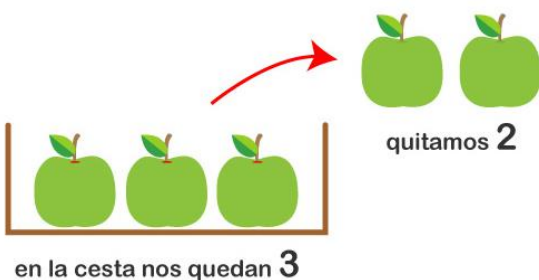
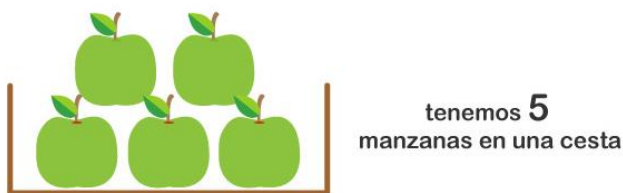
primero sumamos las unidades:

$$\begin{array}{r|l} \text{d.} & \text{u.} \\ \hline & 24 \\ + & 12 \\ \hline & 6 \end{array}$$


seguimos hacia la izquierda con las

$$\begin{array}{r|l} \text{d.} & \text{u.} \\ \hline & 24 \\ + & 12 \\ \hline & 36 \end{array}$$

Recuerda que al sumar agregamos una cantidad a otra, pero cuando restamos le quitamos a una cantidad otra.



$$5 - 2 = 3$$

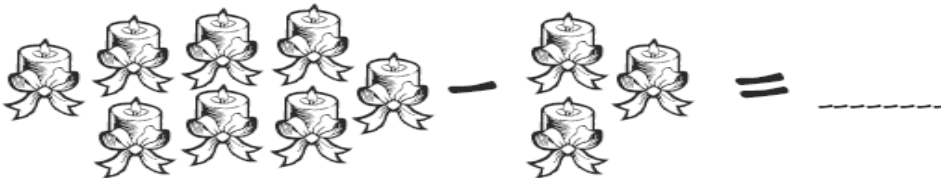




$$2 + 3 = 5$$

LECTIVO 2020
GUÍA DE APRENDIZAJE

Ahora vamos a Restar (Ayúdate con piedritas o palitos para iniciar)

Escribe el resultado de estas restas y colorea los dibujos.





LECTIVO 2020
GUÍA DE APRENDIZAJE

Resuelve estableciendo la diferencia entre la suma y la resta.

$$\begin{array}{r} 4 \\ - 2 \\ \hline \end{array}$$

$$\begin{array}{r} 6 \\ - 3 \\ \hline \end{array}$$

$$\begin{array}{r} 4 \\ - 3 \\ \hline \end{array}$$

$$\begin{array}{r} 7 \\ - 3 \\ \hline \end{array}$$

$$\begin{array}{r} 9 \\ - 4 \\ \hline \end{array}$$

$$\begin{array}{r} 5 \\ - 2 \\ \hline \end{array}$$

$$\begin{array}{r} 4 \\ - 4 \\ \hline \end{array}$$

$$\begin{array}{r} 6 \\ - 0 \\ \hline \end{array}$$

$$\begin{array}{r} 5 \\ - 4 \\ \hline \end{array}$$

$$\begin{array}{r} 5 \\ - 1 \\ \hline \end{array}$$

$$\begin{array}{r} 4 \\ - 0 \\ \hline \end{array}$$

$$\begin{array}{r} 6 \\ - 2 \\ \hline \end{array}$$

$$\begin{array}{r} 8 \\ + 0 \\ \hline \end{array}$$

$$\begin{array}{r} 4 \\ + 1 \\ \hline \end{array}$$

$$\begin{array}{r} 6 \\ + 2 \\ \hline \end{array}$$

$$\begin{array}{r} 3 \\ + 5 \\ \hline \end{array}$$

$$\begin{array}{r} 0 \\ + 6 \\ \hline \end{array}$$

$$\begin{array}{r} 4 \\ + 2 \\ \hline \end{array}$$

$$\begin{array}{r} 1 \\ + 8 \\ \hline \end{array}$$

$$\begin{array}{r} 0 \\ + 6 \\ \hline \end{array}$$

$$\begin{array}{r} 7 \\ + 0 \\ \hline \end{array}$$

$$\begin{array}{r} 2 \\ + 5 \\ \hline \end{array}$$

$$\begin{array}{r} 3 \\ + 4 \\ \hline \end{array}$$

$$\begin{array}{r} 8 \\ + 0 \\ \hline \end{array}$$

$$4 - 1 =$$

$$7 - 2 =$$

$$8 - 2 =$$

$$9 - 7 =$$

$$7 - 6 =$$

$$6 - 6 =$$

$$3 - 2 =$$

$$6 - 3 =$$

$$5 - 1 =$$

$$3 - 1 =$$

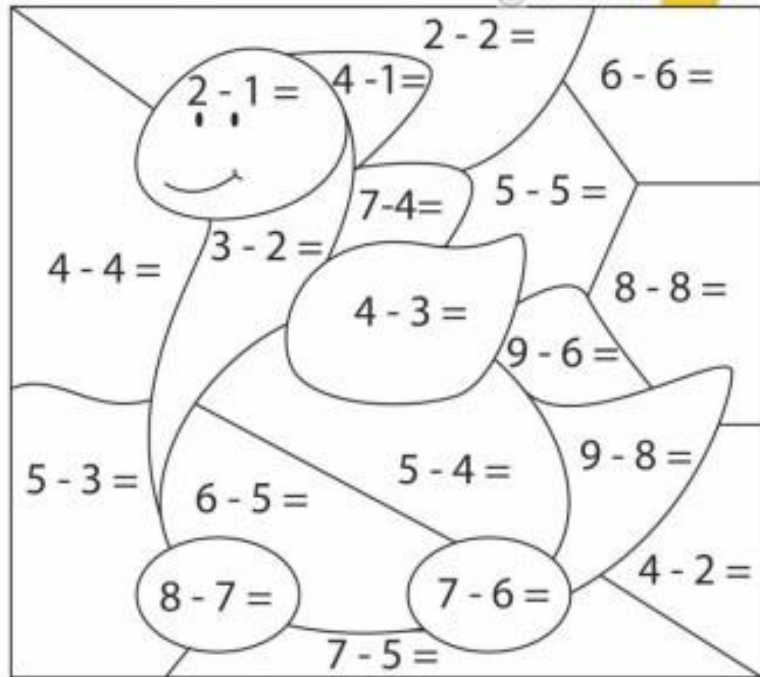
LECTIVO 2020
GUÍA DE APRENDIZAJE

Completa y colorea según los resultados.

- 0 AZUL
- 2 AMARILLO
- 1 VERDE
- 3 NARANJA



5	-	4	=	□
6	-	5	=	□
9	-	8	=	□
7	-	4	=	□
9	-	6	=	□
8	-	7	=	□
5	-	3	=	□
7	-	6	=	□



© webdelmaestro.com

Resuelve:

Tengo 10 tortugas. Si formo un grupo de 4, ¿cuántas tortugas habrá en el otro grupo?

¿Cuántos cántaros llevan entre los dos burritos?

Ahora con ayuda de un familiar analiza las imágenes, con tus manos y dedos puedes ayudarte así:

- Con la mano derecha puedes hacer el mayor que.
- Con la mano izquierda el menor que.

COMPARACIÓN DE NÚMEROS

$3 > 2$

mayor que



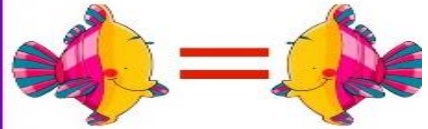
$2 < 3$

menor que




$3 = 3$

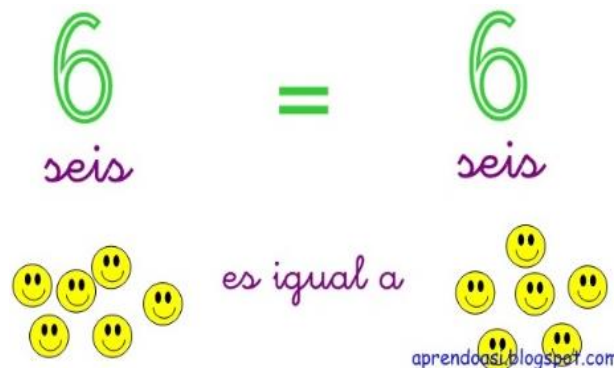
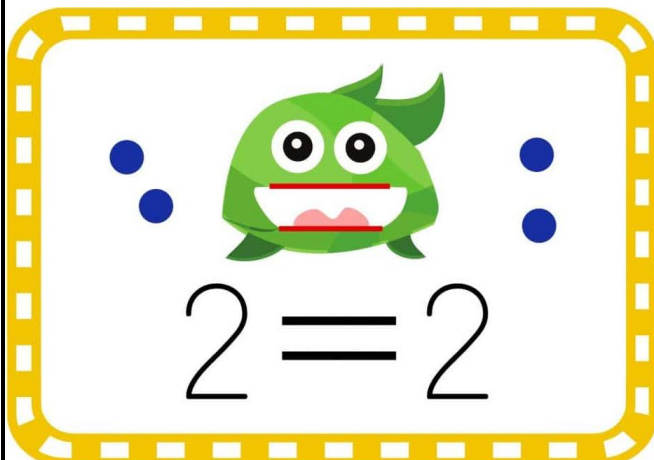

igual que




MAYOR QUE

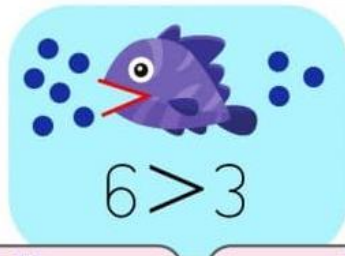


Menor <





LECTIVO 2020
GUÍA DE APRENDIZAJE



5 ○ 1

3 ○ 4

4 ○ 4

0 ○ 5

7 ○ 8

9 ○ 3

8 ○ 2

5 ○ 5

2 ○ 9

7 ○ 7

6 ○ 0

3 ○ 2


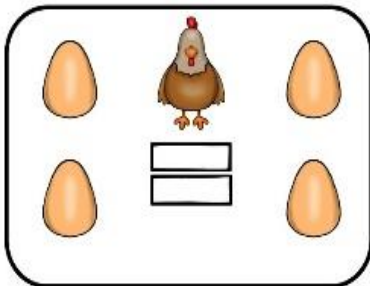

6 ○ 9

3 ○ 1

2 ○ 3

4 ○ 7

Si papá y mamá ven que estoy avanzando rápido, por favor ir ampliando en los números y el tamaño de las operaciones, además de realizar ejercicios adicionales en casa.



6 ○ 4

1 ○ 7


3 ○ 3

5 ○ 5

3 ○ 1

8 ○ 6

Orientación
Analizar



LECTIVO 2020
GUÍA DE APRENDIZAJE

Pinta la imagen COMO TE INDICAN LAS ESTRELLAS según las respuestas

- 2= 
- 4= 
- 5= 
- 8= 

