



TEM08MA201



INSTITUCIÓN EDUCATIVA
"INSTITUTO TÉCNICO"
Santander de Quilichao, Cauca

LECTIVO 2020
GUÍA DE APRENDIZAJE

SEDE	Rafael Tello	PERIODO	2		
ESTUDIANTE		GRUPO	T - C	GUÍA No	3
ÁREA	Matemáticas y Artística	JORNADA	mañana		
DOCENTE	LIZETH JOHANNA PAPAMIJA ORDOÑEZ	FECHA	19 de abril del 2021		
TIEMPO DE DESARROLLO	DE	Del 19 de abril al 21 de mayo de 2021	DURACIÓN	5 semanas	

METAS DE APRENDIZAJE

1. Evidencia la apropiación de un sistema de notación arábigo y la intención de comunicar cantidades por medio de un sistema diferente a las palabras.
2. Identifica el cuadrado como una de las figuras geométricas.

EJES TEMÁTICOS

- Figuras geométricas planas (el cuadrado) contorno y superficie.
- Los números naturales (0 a 9).
- Relación de orden (mayor que, menor que, igual a).

CONCEPTOS BÁSICOS

1. El **cuadrado** es una figura geométrica que pertenece a **los** paralelogramos porque tiene 4 lados. **Los** 4 lados miden lo mismo y son paralelos dos a dos. ... Que tiene 2 lados paralelos entre sí, **y los** otros 2 también son paralelos entre sí. **Los** 4 ángulos internos de un **cuadrado** miden 90°, es decir, son ángulos rectos.
2. Los **números naturales** son el primer conjunto **de números** que aprendemos cuando somos pequeños y utilizamos **para** contar.
3. Relación de orden Son palabras que nos permiten entender comparaciones entre los números naturales **y** de esa forma poder ordenarlos según uno sea mayor, menor o igual que otro. Si un número es menor que otro tiene menos cantidad de cifras o números más pequeños.

PREGUNTAS ESENCIALES

**¿Qué es un cuadrado?, cuantos lados tiene en cuadrado?, ¿en dónde encontramos cuadrados?
¿Qué número es? ¿Cuántos elementos hay? ¿Cuál es mayor, cual es menor?**

EVIDENCIAS DE APRENDIZAJE (INDICADORES DE DESEMPEÑO)

- Realiza composiciones con figuras geométrica el cuadrado
- Reconoce y representa los números del 0 al 9.
- Compara cantidades y números estableciendo relación de orden entre ellos.

ACTIVIDADES

- Actividad 1**
1. Dibuja la línea de puntos siguiendo el cuadrado. Pinta los diferentes cuadrados Reconocer el cuadrado en los objetos que hay en casa.
 - 1.2. Colorea los cuadrados grandes azules. Colorea los cuadrados pequeños de amarillo.
 - 1.3. Colorea el resto de la imagen cualquier color que desees.



LECTIVO 2020
GUÍA DE APRENDIZAJE

Actividad 2	2. Decorar los números del 0 al 9 2.1 Utilizar material del medio para dibujar y decorar los números del 0 al 9 2.2 Repintar los números. 2.3 Transcribir en el cuaderno los números del 0 al 9
Actividad 3	Completa con los símbolos < menor que y > mayor que
RECURSOS	
Material del medio.(lápiz, colores, tapitas tijeras, piedritas). Y fotocopias.	
CRITERIOS DE ENTREGA	
<ul style="list-style-type: none">• La solución de la guía de trabajo la deben realizar apoyándose en hojas o en el cuaderno respectivo. Para la entrega del material, deben elaborar una portada básica con: Área, grupo, número de guía, nombre completo del estudiante y el docente del área que recibe, además de la fecha de entrega.• El desarrollo de esta guía se realiza con la orientación virtual del docente y el acompañamiento en casa de los padres o familiares.• Las guías serán recibidas los días 22, 24 y 25 de mayo del presente año a través de los correos institucionales, el classroom ó en físico en la papelería Punto Click.	
EVALUACIÓN	
Se evaluará mediante el cumplimiento y desarrollo de las actividades y la participación en las orientaciones virtuales.	
TEMAS DE CONSULTA PARA AFIANZAMIENTO Y/O PROFUNDIZACIÓN	
https://www.youtube.com/watch?v=WhXZaxeZ5sg	
REFERENCIAS BIBLIOGRÁFICAS (BIOGRAFÍA Y/O WEBGRAFÍA)	
https://www.youtube.com/watch?v=A9UMce2aLq0&ab_channel=Ticeducadmvr https://www.youtube.com/watch?v=f6dhlzWNJeY&ab_channel=CuriosaMente https://www.youtube.com/watch?v=OHZ_HfPgg7Y&ab_channel=TangibleFun%C2%AE https://www.youtube.com/watch?v=OHZ_HfPgg7Y&ab_channel=TangibleFun%C2%AE	

DESARROLLO DE ACTIVIDADES



INSTITUCIÓN EDUCATIVA
"INSTITUTO TÉCNICO"
Santander de Quilichao, Cauca

LECTIVO 2020
GUÍA DE APRENDIZAJE

ACTIVIDAD 1

Cuadrado



recursosaulapt.blogspot.com

Dibuja la línea de puntos siguiendo el cuadrado. Pinta los diferentes cuadrados.


Nombre:



LECTIVO 2020
GUÍA DE APRENDIZAJE

EL CUADRADO

PINTA sólo las figuras que tienen la forma del cuadrado.



Pinta solo las figuras que tiene forma de cuadrado.


Nombre:



INSTITUCIÓN EDUCATIVA
"INSTITUTO TÉCNICO"
Santander de Quilichao, Cauca


LECTIVO 2020
GUÍA DE APRENDIZAJE

Color the large squares blue. Color the small squares yellow.
Color the rest of the picture any colors you wish.



Colorea los cuadrados grandes azules. Colorea los cuadrados pequeños de amarillo. Colorea el resto de la imagen cualquier color que desees.

Nombre:




ACTIVIDAD 2

Los números del 0 al 9




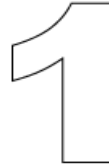
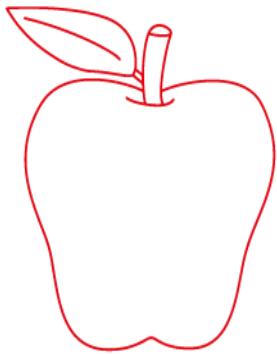

En casa con ayuda de papá y mamá debes profundizar en el reconocimiento del número, la escritura y su relación al contar diferentes elementos.



Los números del 0 al 9


1			6		
2			7		
3			8		
4			9		
5			10		

LECTIVO 2020
GUÍA DE APRENDIZAJE



Colorea el numero 1 de color amarillo

Repasa, colorea y reliza el trazo del numero 1



LECTIVO 2020
GUÍA DE APRENDIZAJE




DOS



NUMERO DOS. REPASAR CON ROTULADOR








LECTIVO 2020
GUÍA DE APRENDIZAJE



Repasa con rotulador el número 3





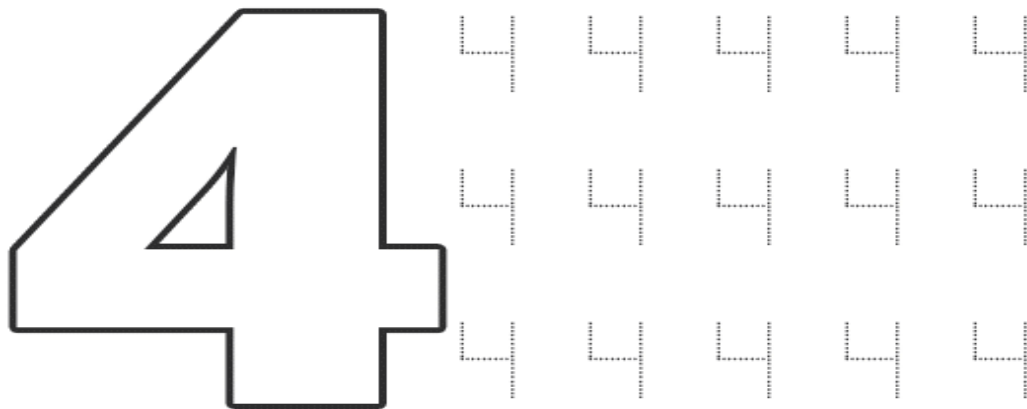

TEM08MA201



INSTITUCIÓN EDUCATIVA
"INSTITUTO TÉCNICO"
Santander de Quilichao, Cauca


LECTIVO 2020
GUÍA DE APRENDIZAJE


Los números



www.edufichas.com

Decora el número 4. Pinta las tortugas y une los puntos para unir los números 4






LECTIVO 2020
GUÍA DE APRENDIZAJE

- **Colorea y reliza el trazo.**



Nombre: _____







LECTIVO 2020
GUÍA DE APRENDIZAJE


. Colorea y reliza el trazo del numero 6.



Número Seis



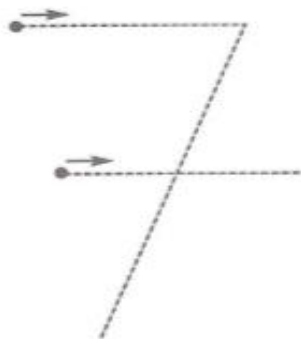
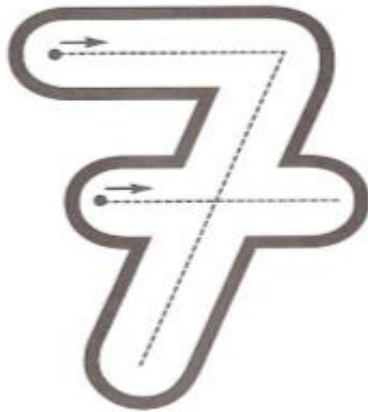


6	6	6	6	6
6	6	6	6	6
6	6	6	6	6
6	6	6	6	6
6	6	6	6	6
6	6	6	6	6



LECTIVO 2020
GUÍA DE APRENDIZAJE

• *Conocer* la noción del número 7. Contar los caramelos que hay dibujados.
• Repasar los trazos del número 7 y reseguirlos siguiendo la pauta.



Un consejo: Rellenar los números 7 de mayor tamaño con plastilina para interiorizar la grafía lo máximo posible.



TEM08MA201




INSTITUCIÓN EDUCATIVA
"INSTITUTO TÉCNICO"

Santander de Quilichao, Cauca


LECTIVO 2020
GUÍA DE APRENDIZAJE





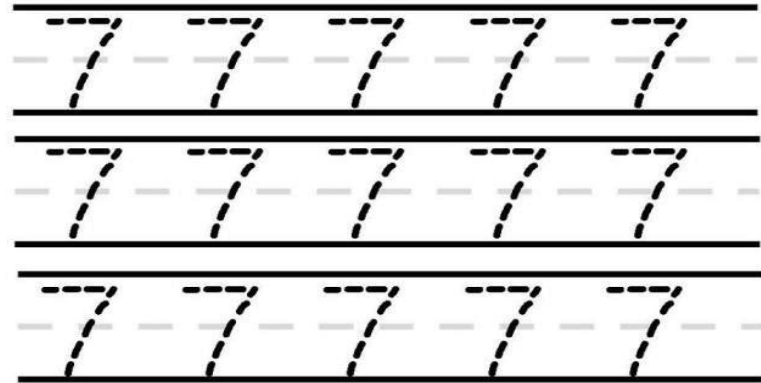
LECTIVO 2020
GUÍA DE APRENDIZAJE

Traza




Siete


Remarca



Cuenta



Colorea 7






LECTIVO 2020
GUÍA DE APRENDIZAJE

Repasa los siguientes números

ocho



LECTIVO 2020
GUÍA DE APRENDIZAJE



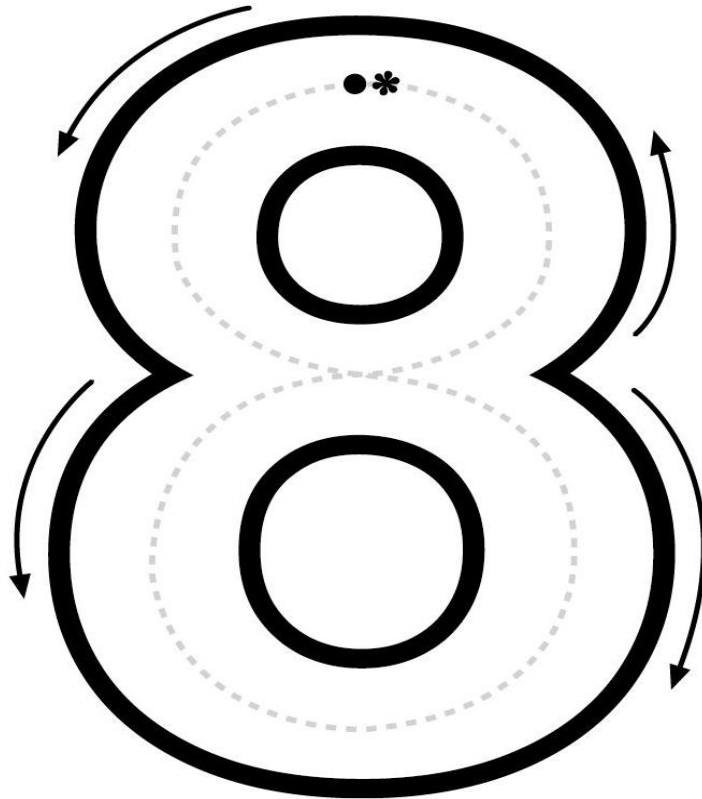
Nombre: _____


Fecha: _____

Ocho 8




- Repasa el contorno del número 8 y luego colorea solo 8 pelotas.

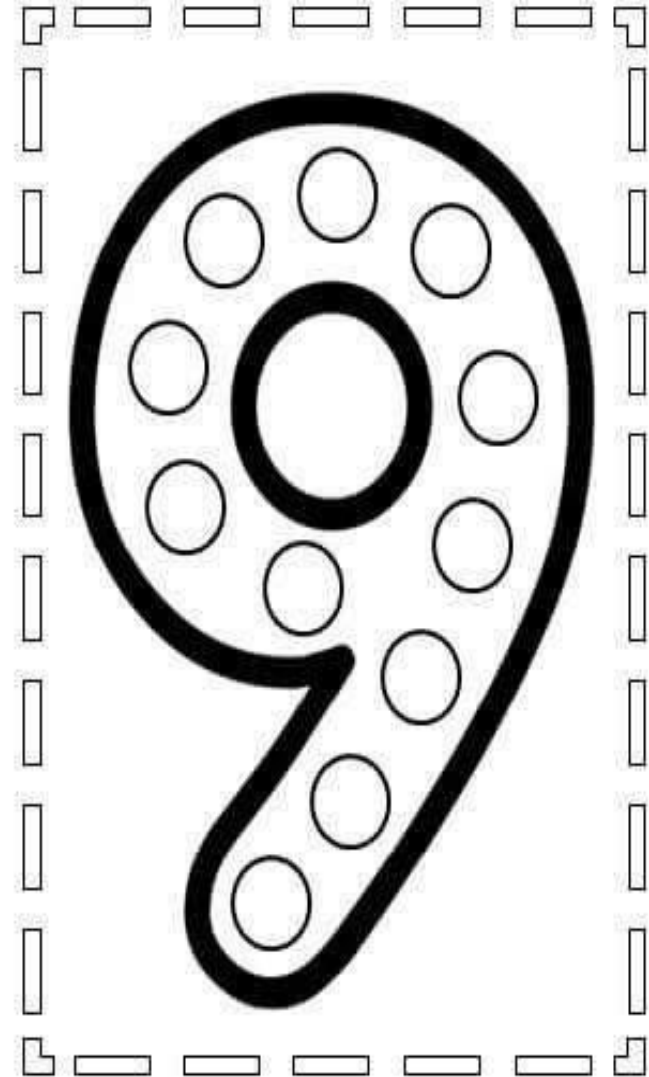







Los números

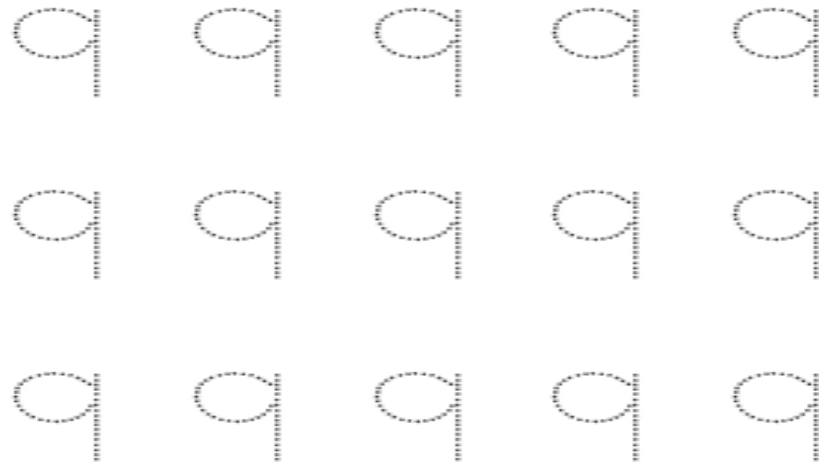
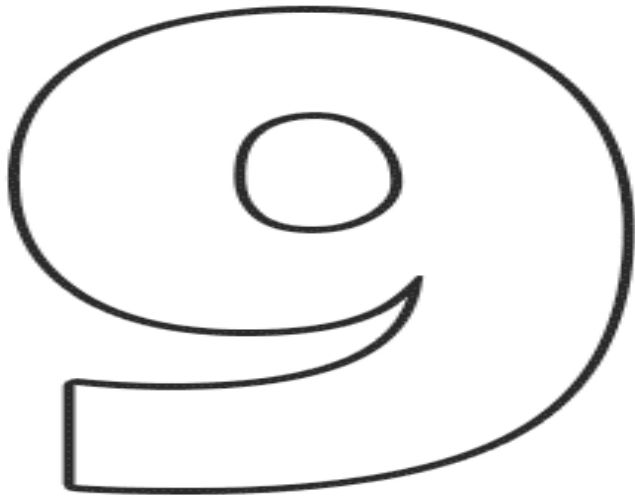




nueve





LECTIVO 2020
GUÍA DE APRENDIZAJE







INSTITUCIÓN EDUCATIVA
"INSTITUTO TÉCNICO"
Santander de Quilichao, Cauca

LECTIVO 2020
GUÍA DE APRENDIZAJE

**Decora el número
cero con material del
medio**






Número 0

Capacidad: Reconoce que debe usar el número 0 cuando no hay elementos.

1. Traza el número 0; luego, colorea las macetas vacías y completa el cuadro:





ACTIVIDAD 3

Matemáticas

Símbolos $<$, $>$ e $=$

NOMBRE:

Completa con los símbolos $<$, $>$ o $=$.



5 ○ 1

3 ○ 4

4 ○ 4

0 ○ 5

7 ○ 8

9 ○ 3

8 ○ 2

5 ○ 5

2 ○ 9

7 ○ 7

6 ○ 0

3 ○ 2

6 ○ 9

3 ○ 1

2 ○ 3

4 ○ 7





LECTIVO 2020
GUÍA DE APRENDIZAJE

Nombre: Fecha: Curso:

Mayor y menor



Coloca los signos mayor que ">" o menor que "<"

- 7 ○ 8
- 9 ○ 4
- 8 ○ 5
- 2 ○ 8
- 4 ○ 7
- 6 ○ 3
- 1 ○ 2



- 5 ○ 7
- 7 ○ 9
- 4 ○ 8
- 9 ○ 2

www.edufichas.com

www.edufichas.com

Nombre:

Mayor o menor



Añade los signos de mayor ">" o menor "<".


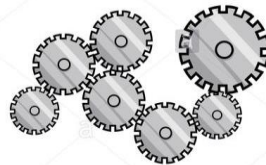

- 3 _ 1
- 5 _ 8
- 7 _ 2
- 3 _ 9
- 8 _ 6
- 3 _ 1



- 4 _ 1
- 5 _ 6
- 3 _ 8
- 2 _ 4

www.edufichas.com

8		10
4		3
7		5
6		9
8		6
10		9
6		7





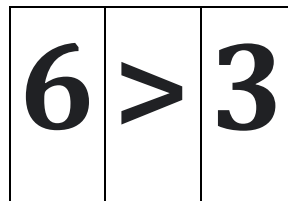
LECTIVO 2020
GUÍA DE APRENDIZAJE

Tira los dados y coloca el número en la línea. ejemplo











Tira los dados de nuevo  y coloca el número en el segundo puesto

< , > o = en el círculo ejemplo



Nombre: _____

<hr/>  <hr/>	<hr/>  <hr/>	<hr/>  <hr/>	<hr/>  <hr/>	<hr/>  <hr/>	<hr/>  <hr/>	<hr/>  <hr/>	<hr/>  <hr/>
		