



LECTIVO 2020
GUÍA DE APRENDIZAJE

SEDE	RAFAEL TELLO	PERIODO	02		
ESTUDIANTE		GRUPO	1 A- B	GUÍA No	04
ÁREA	MATEMATICA TRANSVERSAL A INGLÉS	JORNADA	MAÑANA		
DOCENTE	Silvio Aurelio Cerón Mary Melenje Avendaño	FECHA			
TIEMPO DE DESARROLLO	3 de agosto hasta el 11 de septiembre		DURACIÓN		

METAS DE APRENDIZAJE	
NUMEROS DEL 1 AL 100	
TEMA	
Escritura y lectura números de 1 a 100 Mayor que, menor que, igual que Completar series de números Sumas, restas y problemas sencillos	
EJES TEMATICOS	
<ul style="list-style-type: none">• Escritura de números con letras.• Sumas sin llevar hasta 100• Comparación de numero (mayor que, menor que, igual que)• Desarrollo de ejercicios completando series• Sumas hasta 100 llevando	
PREGUNTAS ESENCIALES	
¿Qué números se encuentran antes de y después de otros? ¿importancia de saber los números hasta 100?, practicando con la decena	
ACTIVIDADES	
Actividad 1	¿Qué es una decena ?, ¿cuántas decenas hay de 1 a 100?
Actividad 2	Escribir los números de 1 a 100 de 2 en 2, escribir los números de 5 en 5 hasta 100
Actividad 3	Resolver diferentes sumas con dos dígitos, llevando y sin llevar, resolución de problemas sencillos
RECURSOS	
GUIAS, CUADERNOS, COLORES, LAPICES, ELEMENTOS DEL ENTORNO	
CRITERIOS DE ENTREGA	
SE ENTREGARÁ DE ACUERDO A LOS CRITERIOS QUE DESIGNE LA COORDINACION	
EVALUACIÓN	
SE EVALUARÁ DE ACUERDO AL RESULTADO O AL DESARROOLLO DE LAS MISMAS	
REFERENCIAS BIBLIOGRÁFICAS (BIOGRAFÍA Y/O WEBGRAFÍA)	
https://co.pinterest.com/pin/176414510383059878/ https://www.pequeocio.com/sumas-restas-primaria/ http://www.interpeques2.com/peques5/problemas/sumasrestas.htm https://escuelaprimaria.net/sumas-llevando-para-primero-de-primaria/ https://www.edufichas.com/wp-content/uploads/2015/05/mayor-que-menor-que-ficha-4.png https://www.edufichas.com/matematicas/mayor-o-menor/ https://www.edufichas.com/descargas/cuaderno-de-vocabulario-en-ingles/ https://www.pinterest.es/pin/594334482044248646/	



LECTIVO 2020
GUÍA DE APRENDIZAJE
DESARROLLO DE ACTIVIDADES

PINTA CADA DECENA CON UN COLOR DIFERENTE

1	2	3	4	5	6	7	8	9	10
11	12	13	14	15	16	17	18	19	20
21	22	23	24	25	26	27	28	29	30
31	32	33	34	35	36	37	38	39	40
41	42	43	44	45	46	47	48	49	50
51	52	53	54	55	56	57	58	59	60
61	62	63	64	65	66	67	68	69	70
71	72	73	74	75	76	77	78	79	80
81	82	83	84	85	86	87	88	89	90
91	92	93	94	95	96	97	98	99	100



LECTIVO 2020
GUÍA DE APRENDIZAJE

A) COMPLETA EL ORDEN NUMERICO

B) COLOREA CON ROJO LOS NÚMEROS DE 2 EN 2 HASTA 100

0	1	2	3	4	5	6	7	8	9
10									
20									
30									
40									
50									
60									
70									
80									
90									



LECTIVO 2020
GUÍA DE APRENDIZAJE

Completa los números de 5 en 5 hasta 100

1	2	3	4		6	7	8	9	
11	12	13	14		16	17	18	19	
21	22	23	24		26	27	28	29	
31	32	33	34		36	37	38	39	
41	42	43	44		46	47	48	49	
51	52	53	54		56	57	58	59	
61	62	63	64		66	67	68	69	
71	72	73	74		76	77	78	79	
81	82	83	84		86	87	88	89	
91	92	93	94		96	97	98	99	

¡Aprende y estudia todos los días!

Contar de 10 en 10 hasta 100:

10 20 30 40 50 60 70 80 90 100

Contar de 5 en 5 hasta 100:

5 10 15 20 25 30 35 40 45 50 55

60 65 70 75 80 85 90 95 100

Contar de 2 en 2 hasta 30:

2 4 6 8 10 12 14 16 18 20

22 24 26 28 30







LECTIVO 2020
GUÍA DE APRENDIZAJE

Recuerda que: Sumar es juntar dos o más cosas en un grupo, para saber cuántas hay en total.

Practiquemos: No olvides... primero sumamos las unidades y luego las decenas.

- SUMA Y ESCRIBE EL RESULTADO CON COLOR ROJO

$\begin{array}{r} + 43 \\ 12 \\ \hline \end{array}$	$\begin{array}{r} + 87 \\ 11 \\ \hline \end{array}$	$\begin{array}{r} + 10 \\ 30 \\ \hline \end{array}$	$\begin{array}{r} + 45 \\ 45 \\ \hline \end{array}$
$\begin{array}{r} + 76 \\ 23 \\ \hline \end{array}$	$\begin{array}{r} + 74 \\ 21 \\ \hline \end{array}$	$\begin{array}{r} + 33 \\ 55 \\ \hline \end{array}$	$\begin{array}{r} + 27 \\ 73 \\ \hline \end{array}$
$\begin{array}{r} + 14 \\ 13 \\ \hline \end{array}$	$\begin{array}{r} + 68 \\ 10 \\ \hline \end{array}$	$\begin{array}{r} + 54 \\ 23 \\ \hline \end{array}$	$\begin{array}{r} + 37 \\ 62 \\ \hline \end{array}$
$\begin{array}{r} + 26 \\ 21 \\ \hline \end{array}$	$\begin{array}{r} + 57 \\ 42 \\ \hline \end{array}$		



LECTIVO 2020
GUÍA DE APRENDIZAJE


RECUERDA que siempre se suman primero las unidades y seguidamente las decenas. Sigue el ejemplo con ayuda de tus padres.

1. Observa y realiza las sumas:

$ \begin{array}{r} + \begin{array}{ c c } \hline d & u \\ \hline 2 & 8 \\ \hline 2 & 6 \\ \hline \end{array} + \begin{array}{r} 28 \\ + 6 \\ \hline \end{array} \end{array} $	$ \begin{array}{r} + \begin{array}{ c c } \hline d & u \\ \hline 2 & 4 \\ \hline 1 & 6 \\ \hline \end{array} + \begin{array}{r} 24 \\ + 16 \\ \hline \end{array} \end{array} $
$ \begin{array}{r} + \begin{array}{ c c } \hline d & u \\ \hline 4 & 2 \\ \hline 1 & 9 \\ \hline \end{array} + \begin{array}{r} 42 \\ + 19 \\ \hline \end{array} \end{array} $	$ \begin{array}{r} + \begin{array}{ c c } \hline d & u \\ \hline 1 & 9 \\ \hline 2 & 7 \\ \hline \end{array} + \begin{array}{r} 19 \\ + 27 \\ \hline \end{array} \end{array} $



RESUELVE



$$\begin{array}{r} 20 \\ + 13 \\ \hline \end{array}$$

$$\begin{array}{r} 22 \\ + 11 \\ \hline \end{array}$$

$$\begin{array}{r} 13 \\ + 21 \\ \hline \end{array}$$

$$\begin{array}{r} 12 \\ + 22 \\ \hline \end{array}$$

$$\begin{array}{r} 23 \\ + 11 \\ \hline \end{array}$$

$$\begin{array}{r} 14 \\ + 52 \\ \hline \end{array}$$

$$\begin{array}{r} 26 \\ + 32 \\ \hline \end{array}$$

$$\begin{array}{r} 35 \\ + 42 \\ \hline \end{array}$$

$$\begin{array}{r} 44 \\ + 24 \\ \hline \end{array}$$

$$\begin{array}{r} 65 \\ + 10 \\ \hline \end{array}$$

$$\begin{array}{r} 30 \\ + 47 \\ \hline \end{array}$$

$$\begin{array}{r} 41 \\ + 15 \\ \hline \end{array}$$

$$\begin{array}{r} 57 \\ + 12 \\ \hline \end{array}$$

$$\begin{array}{r} 60 \\ + 16 \\ \hline \end{array}$$

$$\begin{array}{r} 28 \\ + 51 \\ \hline \end{array}$$

$$\begin{array}{r} 29 \\ + 70 \\ \hline \end{array}$$

$$\begin{array}{r} 34 \\ + 54 \\ \hline \end{array}$$

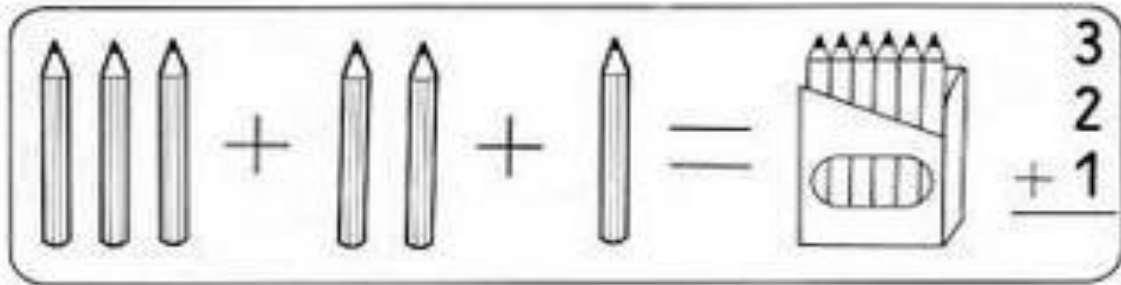
$$\begin{array}{r} 40 \\ + 56 \\ \hline \end{array}$$

$$\begin{array}{r} 33 \\ + 62 \\ \hline \end{array}$$

$$\begin{array}{r} 46 \\ + 20 \\ \hline \end{array}$$



LECTIVO 2020
GUÍA DE APRENDIZAJE



$$\begin{array}{r} 60 \\ + 21 \\ \hline \end{array}$$

$$\begin{array}{r} 27 \\ + 21 \\ \hline \end{array}$$

$$\begin{array}{r} 44 \\ + 10 \\ \hline \end{array}$$

$$\begin{array}{r} 46 \\ + 23 \\ \hline \end{array}$$

$$\begin{array}{r} 15 \\ + 32 \\ \hline \end{array}$$

$$\begin{array}{r} 27 \\ 10 \\ + 1 \\ \hline \end{array}$$

$$\begin{array}{r} 16 \\ 12 \\ + 10 \\ \hline \end{array}$$

$$\begin{array}{r} 42 \\ 13 \\ + 43 \\ \hline \end{array}$$

$$\begin{array}{r} 10 \\ 46 \\ + 32 \\ \hline \end{array}$$

$$\begin{array}{r} 2 \\ 14 \\ + 53 \\ \hline \end{array}$$

$$\begin{array}{r} 60 \\ 25 \\ + 13 \\ \hline \end{array}$$

$$\begin{array}{r} 42 \\ 2 \\ + 32 \\ \hline \end{array}$$

$$\begin{array}{r} 24 \\ 23 \\ + 41 \\ \hline \end{array}$$

$$\begin{array}{r} 40 \\ 15 \\ + 43 \\ \hline \end{array}$$

$$\begin{array}{r} 14 \\ 61 \\ + 12 \\ \hline \end{array}$$

Resolvamos mentalmente en familia

- A) $20+10+4=$
- B) $6+3+8=$
- C) $3+5+9+2=$
- D) $50+20+10+8=$
- E) $30+5+5=$
- F) $9+9+9=$





INSTITUCIÓN EDUCATIVA
"INSTITUTO TÉCNICO"
Santander de Quilichao, Cauca

LECTIVO 2020
GUÍA DE APRENDIZAJE

$$\begin{array}{r} 65 \\ - 45 \\ \hline \end{array}$$

$$\begin{array}{r} 86 \\ - 34 \\ \hline \end{array}$$

$$\begin{array}{r} 51 \\ - 20 \\ \hline \end{array}$$

$$\begin{array}{r} 39 \\ - 22 \\ \hline \end{array}$$

$$\begin{array}{r} 78 \\ - 45 \\ \hline \end{array}$$

$$\begin{array}{r} 87 \\ - 74 \\ \hline \end{array}$$

$$\begin{array}{r} 66 \\ - 14 \\ \hline \end{array}$$

$$\begin{array}{r} 37 \\ - 26 \\ \hline \end{array}$$

$$\begin{array}{r} 46 \\ - 41 \\ \hline \end{array}$$

$$\begin{array}{r} 94 \\ - 10 \\ \hline \end{array}$$

$$\begin{array}{r} 73 \\ - 23 \\ \hline \end{array}$$

$$\begin{array}{r} 19 \\ - 12 \\ \hline \end{array}$$

$$\begin{array}{r} 75 \\ - 34 \\ \hline \end{array}$$

$$\begin{array}{r} 37 \\ - 16 \\ \hline \end{array}$$

$$\begin{array}{r} 34 \\ - 11 \\ \hline \end{array}$$

$$\begin{array}{r} 97 \\ - 14 \\ \hline \end{array}$$



LECTIVO 2020
GUÍA DE APRENDIZAJE

Coloca los signos mayor que ">" o menor que "<"

6 ○ 10

14 ○ 23

57 ○ 45

42 ○ 62

32 ○ 53

50 ○ 41

72 ○ 36



81 ○ 43

www.edufichas.com

24 ○ 25

36 ○ 31

90 ○ 88

Ordena las siguientes cantidades de mayor a menor:

30 23 29 5 35 27

○ > ○ > ○ > ○ > ○ > ○

www.edufichas.com

17 60 12 19 35 42

○ > ○ > ○ > ○ > ○ > ○

11 43 6 52 16 23

○ > ○ > ○ > ○ > ○ > ○

LECTIVO 2020
GUÍA DE APRENDIZAJE

Resolver los siguientes problemas matemáticos haciendo la operación al frente y colorear las imágenes.


Cuando se junten todos, ¿cuántos conejitos serán?



¿Cuántos barcos faltan para que haya 9?



¿Cuántos animales hay entre todos?



¿Cuántos pájaros más hay en el árbol que en la jaula?





LECTIVO 2020
GUÍA DE APRENDIZAJE

Resolver, haciendo las operaciones:

<p>Del gallinero he cogido 24 huevos por la mañana y 37 por la tarde. ¿Cuántos huevos he cogido en todo el día?</p>	
<p>En el armario de mi habitación tengo 6 camisas, 3 pantalones y 2 chaquetas. ¿Cuántas prendas tengo en total?</p>	
<p>En la nevera había 7 huevos y hemos cogido 4 para hacer una tortilla. ¿Cuántos huevos quedarán en la nevera?</p>	
<p>En una caja de queso había 8 porciones. Si mi hermano se come 2 y yo 3, ¿cuántas porciones quedan en la caja?</p>	
<p>Mario y Pepe tiene dieciseis colores entre los dos. De Mario son nueve colores Los otros colores son de Pepe. ¿Cuántos colores son de Pepe?</p>	<p>Anita tiene diez piruletas. Pati necesita comerse cinco para tener las misma que Anita. ¿Cuántas piruletas tiene Pati?</p>



LECTIVO 2020
GUÍA DE APRENDIZAJE

Con la ayuda de un familiar y
teniendo en cuenta la imagen,
relaciona la cantidad con el
numero en inglés:

¡BENDICIONES... TRABAJEMOS
CON CARIÑO!





INSTITUCIÓN EDUCATIVA
"INSTITUTO TÉCNICO"
Santander de Quilichao, Cauca

LECTIVO 2020
GUÍA DE APRENDIZAJE

INFORMACIÓN - FECHAS

+

PERIODO	CORTE	FECHA	DURACIÓN
1	1	Abril 24 a mayo 17	24 días
	2	Mayo 18 a junio 15	29 días
2	3	Junio 16 a agosto 3	49 días
	4	Agosto 4 a septiembre 11	39 días
	5	Septiembre 12 a octubre 23	42 días

□

ACTIVIDAD	FECHA
Fin del primer periodo	Junio 15
Digitación de notas primer semestre	Julio 27 a agosto 2
Sincronización de notas y elaboración de boletines	Agosto 3 a agosto 7
Envío de boletines del primer periodo a padres de familia	Agosto 10 a agosto 14
Recuperaciones del primer periodo	Agosto 14 a septiembre 14



LECTIVO 2020
GUÍA DE APRENDIZAJE

Nombre:

The animals

Relaciona cada nombre con su animal. Colorea los dibujos.



cow



crab



cat



rabbit



dog



raccoon




frog



pig

www.edsfichas.com



LECTIVO 2020
GUÍA DE APRENDIZAJE

Nombre: _____

Días de la semana en inglés



MONDAY
LUNES



TUESDAY
MARTES



WEDNESDAY
MIÉRCOLES



THURSDAY
JUEVES



FRIDAY
VIERNES



SATURDAY
SÁBADO



SUNDAY
DOMINGO



INSTITUCIÓN EDUCATIVA
"INSTITUTO TÉCNICO"
Santander de Quilichao, Cauca

LECTIVO 2020
GUÍA DE APRENDIZAJE



INSTITUCIÓN EDUCATIVA
INSTITUTO TÉCNICO
Santander de Quilichao, Cauca

RUTA DE ATENCIÓN A USUARIOS DE LA INSTITUCIÓN EDUCATIVA EN ÉPOCA DE
CONFINAMIENTO POR COVID-19
SECRETARÍAS GENERAL Y ACADÉMICA

Secretaría General

Ingresar a la página web :
www.instecnico.edu.co: Correo:

secretariageneral@instecnico.edu.co

Hacer la solicitud al correo Secretaría General, detallando la solicitud con nombres y apellidos completos y documento de identidad. Se dará respuesta en los 3 días hábiles siguientes

- ✓ Para solicitar COPIA DE ACTAS DE GRADO Y DIPLOMAS, deben seguir los siguientes pasos:
- 1. consignar en Bancolombia cuenta No 34603709-6 la suma de \$35.000.00 y escribir en la parte de atrás de la Consignación Nombres y Apellidos Completos con No. De Documento de Identidad
- 2. Año de graduación y Jornada de estudios
- 3. Registro Civil original
- 4. Fotocopia legible de la Cédula ampliada al 150%
- 5. Carta dirigida al Señor Rector de la Institución Educativa, haciendo la solicitud
- 6. Anexar denuncia por pérdida o robo del Diploma o el Acta de Grado o ambos

NOTA: Toda esta documentación la deben alistar para que sea entregada en la Secretaría General del Plantel, en el momento en que se dé apertura a los Usuarios de manera física. Los documentos solicitados se entregarán en el mes de Diciembre de 2020

Secretaría Académica

Ingresar a la página web :
www.instecnico.edu.co: Correo:

secretariajm@instecnico.edu.co
secretariajt@instecnico.edu.co

A esta Secretaría pueden solicitar:

- ✓ Constancias de Estudio: En este caso escribir Nombres y Apellidos completos, grado y jornada escolar a la que pertenece el Estudiante
→ Esta Constancia la pueden reclamar en la Portería en los 3 días hábiles siguientes a la solicitud
- ✓ Certificados de Notas (Para Estudiantes que se retiraron de la Institución Educativa o que ya se graduaron) Su solicitud debe contener: Nombres y Apellidos completos, Grados que CURSÓ Y APROBÓ, en que año y jornada
→ Este Certificado lo pueden reclamar en la Portería en los 10 días hábiles siguientes a la solicitud

Adicional a su solicitud, debe consignar en Bancolombia cuenta No 34603709-6 \$5.000 por cada grado y dejar en la Portería del Colegio la Consignación con los datos del Estudiante en la parte de atrás (Letra legible)

Secretaría Académica Sedes de Básica Primaria (Rafael Tello, Fco. De Paula Santander – José E. Sandoval)

Ingresar a la página web :
www.instecnico.edu.co: Correo:

yobando@instecnico.edu.co

A esta Secretaría pueden solicitar:

- ✓ Constancias de Estudio: En este caso escribir Nombres y Apellidos completos, grado y jornada escolar a la que pertenece el Estudiante → Esta Constancia la pueden reclamar en la Portería en los 3 días hábiles siguientes a la solicitud
- ✓ Certificados de Notas (Para Estudiantes que se retiraron de la Institución) Su solicitud debe contener: Nombres y Apellidos completos, Grados que CURSÓ Y APROBÓ, en que año y Sede → Este Certificado lo pueden reclamar en la Portería en los 10 días hábiles siguientes a la solicitud
- ✓ Adicional a su solicitud, debe consignar en Bancolombia cuenta No. 34603709-6 \$5.000 por cada grado y dejar en la Portería del Colegio la Consignación con los datos del Estudiante en la parte de atrás (Letra legible)

Otros Servicios Académicos o Administrativos

Ingresar a la página web :
www.instecnico.edu.co: Correo:

secretariageneral@instecnico.edu.co
secretariajm@instecnico.edu.co
secretariajt@instecnico.edu.co

- ✓ Señor Usuario: Haga su solicitud lo más claro posible y déjenos sus datos y No. de teléfono, que nos estaremos comunicando con Usted en el menor tiempo posible, para atender su solicitud.
- ✓ Adicionalmente pueden ingresar a la Plataforma de Gegar: www.boletin.gegar-soft.com/tecnico con el USUARIO y la CLAVE de cada Estudiante, en la parte izquierda donde dice act-matricula, aparece el link de CONSTANCIA DE ESTUDIO en color rojo, para que directamente la puedan imprimir (SOLO ESTUDIANTES ACTIVOS EN EL AÑO 2020)