



LECTIVO 2020
GUÍA DE APRENDIZAJE

| | | | | | |
|----------------------|--------------------------|--------------------------------------|----------|----------|--|
| SEDE | Rafael Tello | PERIODO | 2 | | |
| ESTUDIANTE | | GRUPO | 4A-4B | GUÍA No | |
| ÁREA | CIENCIAS SOCIALES- ETICA | JORNADA | mañana | | |
| DOCENTE | Alfonso Orlando Vidales | FECHA | junio | | |
| TIEMPO DE DESARROLLO | DE | Del 16 de junio hasta el 21 de julio | DURACIÓN | 15 horas | |

METAS DE APRENDIZAJE

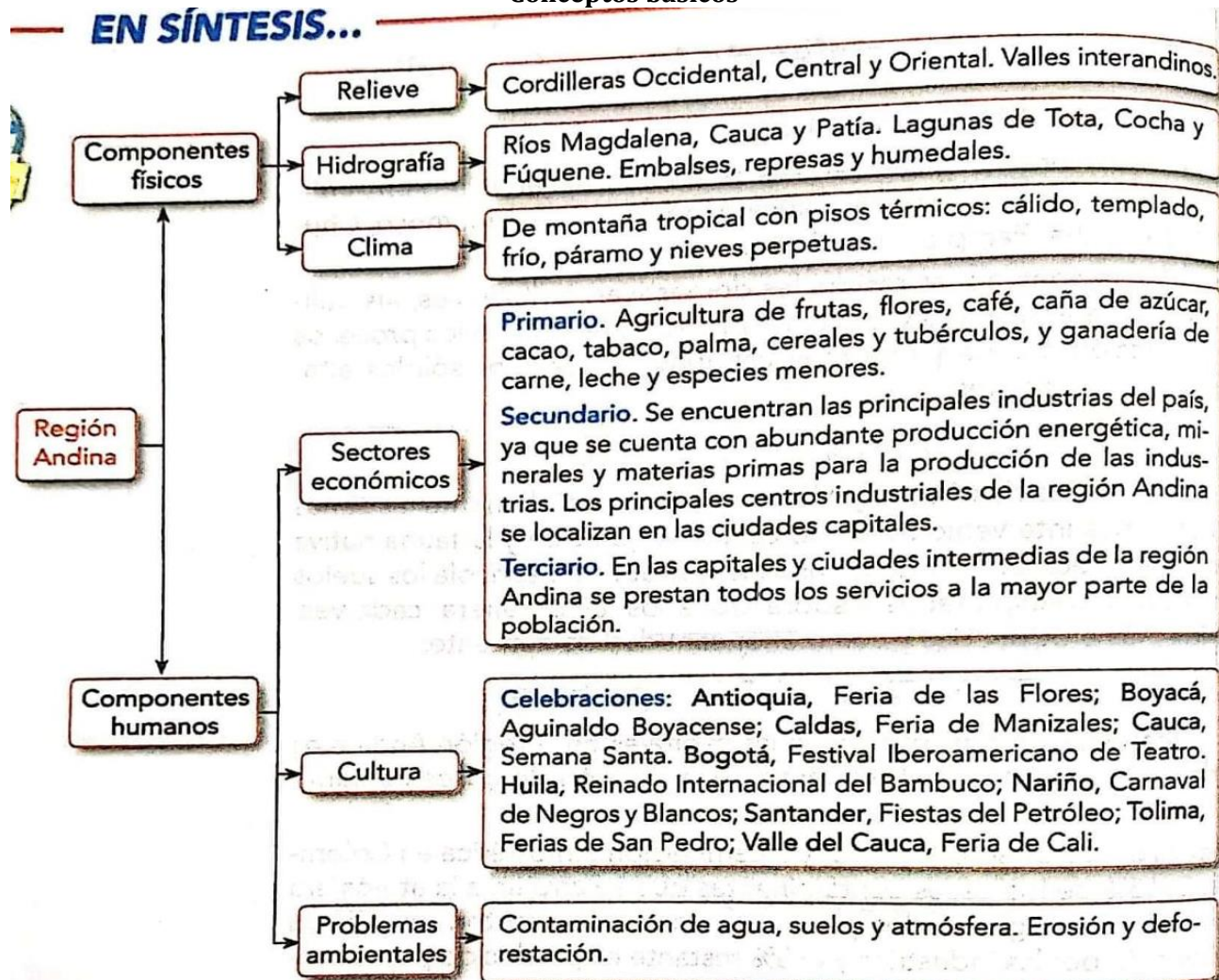
- Determinar el concepto de región natural
- Identificar las regiones naturales de Colombia
- Conocer el relieve de cada uno de las regiones
- Conocer la biodiversidad de cada región
- Conocer la importancia económica de cada región para Colombia

EJES TEMÁTICOS

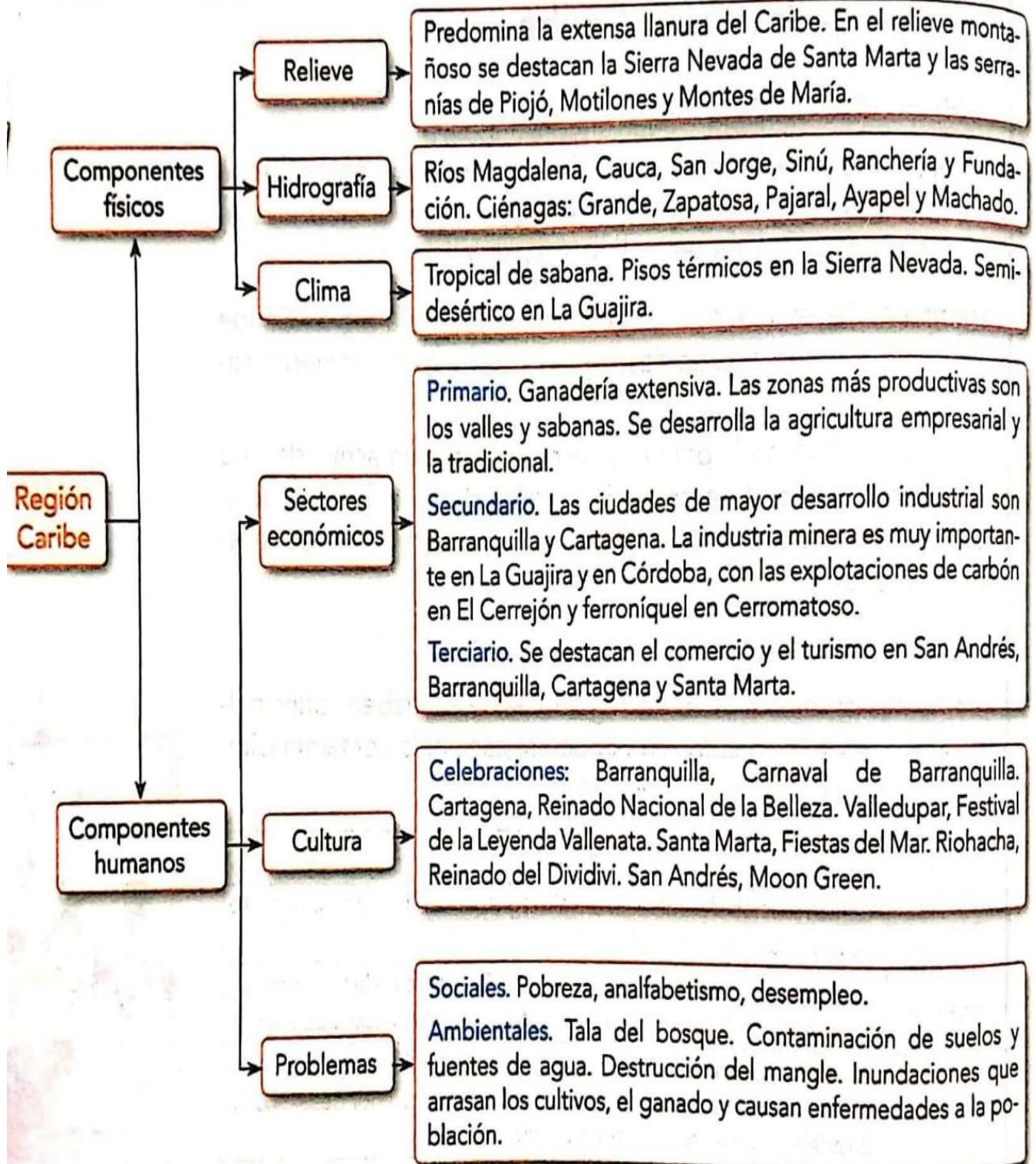
- . Regiones geográficas de Colombia
- . Aspectos físicos de cada región
- . Aspectos económicos de las regiones

EN SÍNTESIS...

Conceptos básicos

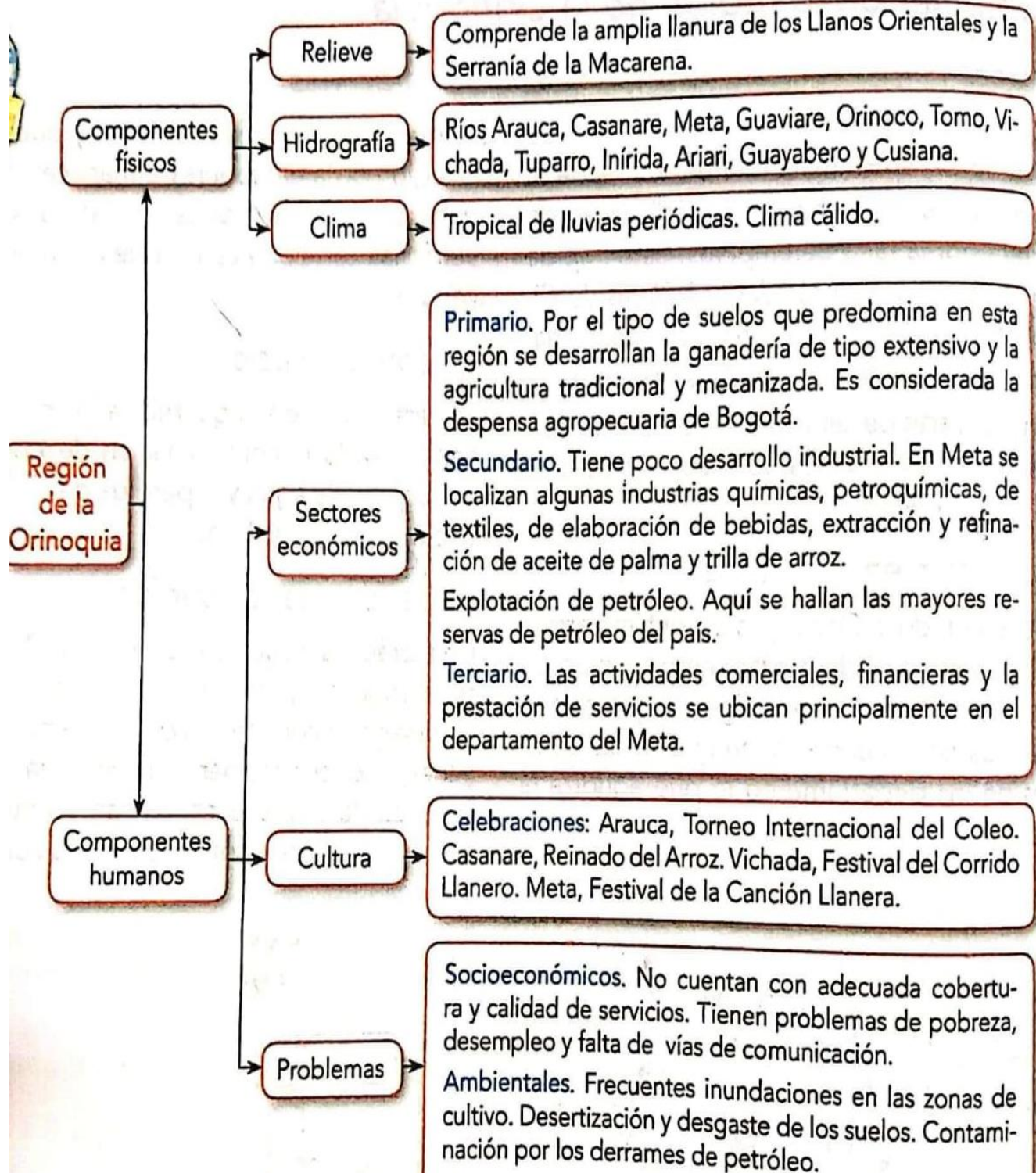


EN SÍNTESIS...



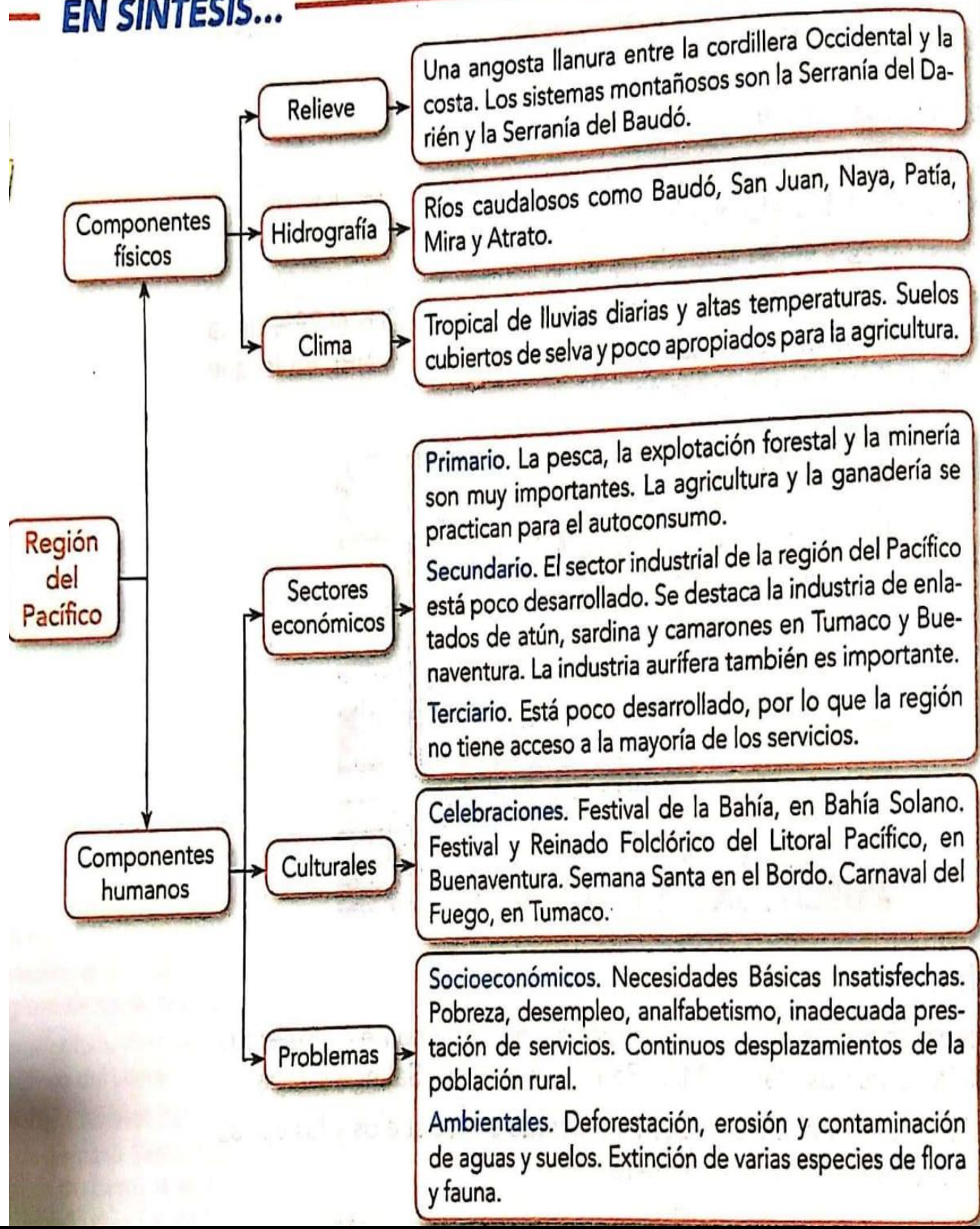


EN SÍNTESIS...

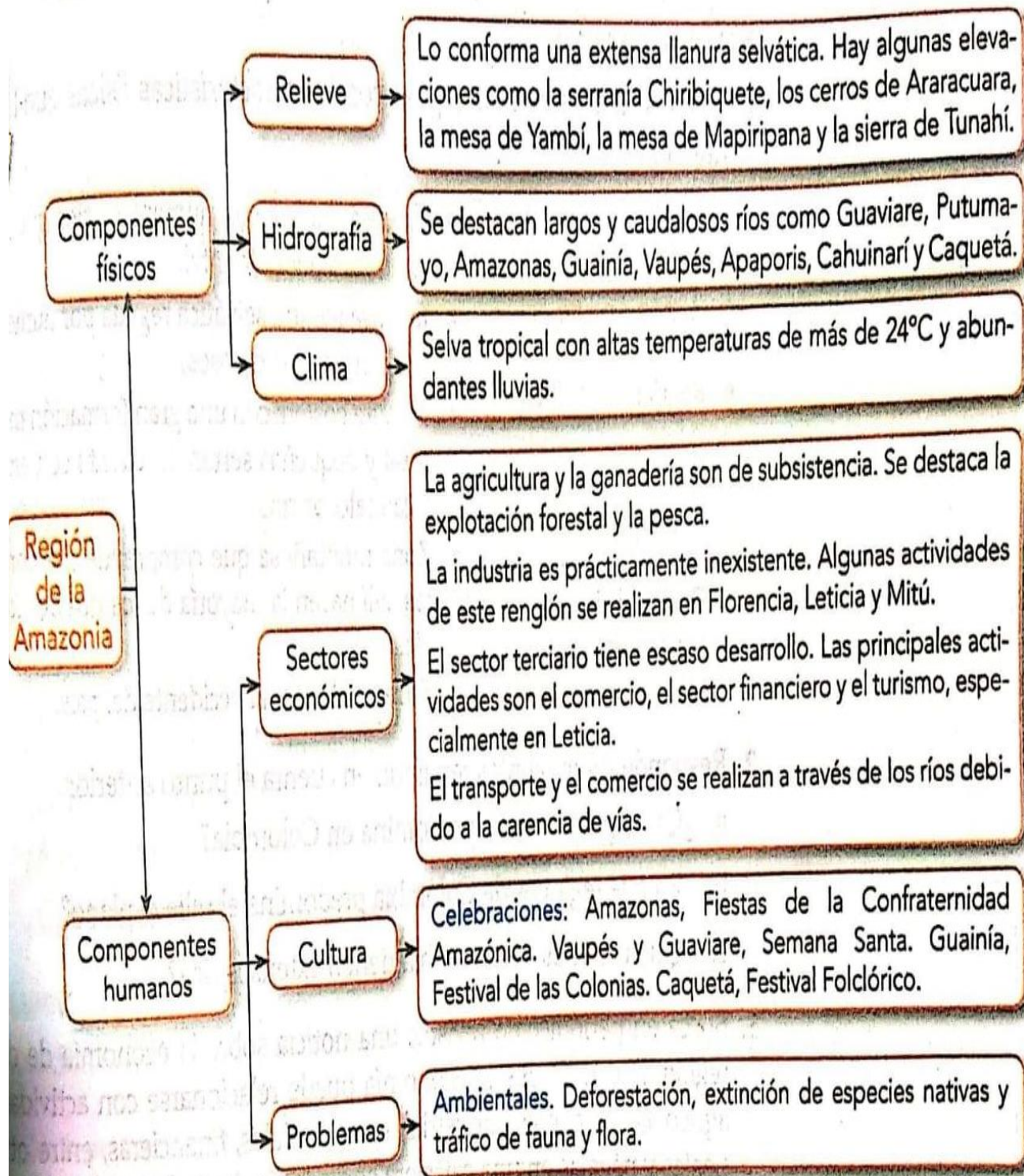




EN SÍNTESIS...



EN SÍNTESIS ...





INSTITUCIÓN EDUCATIVA
"INSTITUTO TÉCNICO"
Santander de Quilichao, Cauca

LECTIVO 2020
GUÍA DE APRENDIZAJE

TALLER N°1
TEMA: LAS REGIONES NATURALES DE COLOMBIA

- 1- En el mapa de Colombia ubique y escriba el nombre de cada región natural. (Mapa Anexo)
- 2- Dibuje un paisaje perteneciente a cada región natural de Colombia.





LECTIVO 2020
GUÍA DE APRENDIZAJE

3- Relacione las afirmaciones de la columna izquierda con las razones de la columna derecha.

a- La región Caribe tiene gran variedad de climas, de vegetación y de paisajes...

b- Los accidentes costeros de la región Caribe son un importante atractivo turístico...

c- La hidrografía de la región Caribe contribuye con el desarrollo de la economía de la región...

d- Las llanuras del Caribe se utilizan para el desarrollo de la ganadería...

e- Las playas de la región Caribe son atractivo turístico para miles de personas ...

Porque...

Allí se han construido puertos y hoteles que atraen a los turistas.

Sus sabanas son aptas para pastos, especiales en la cría y levante de vacunos.

Su relieve es variado, lo mismo que las condiciones atmosféricas, los vientos y la humedad.

La majestuosidad de sus paisajes y la hospitalidad de sus gentes las hacen únicas.

Sus abundantes y caudalosos ríos aportan recursos a los habitantes de la región.

4- Relacione el nombre de la región con su ubicación y el mapa que corresponda

① REGION ANDINA

Norte de Colombia

② REGION PACIFICA

Oriente de Colombia

③ REGION INSULAR

Centro de Colombia

④ REGION AMAZONICA

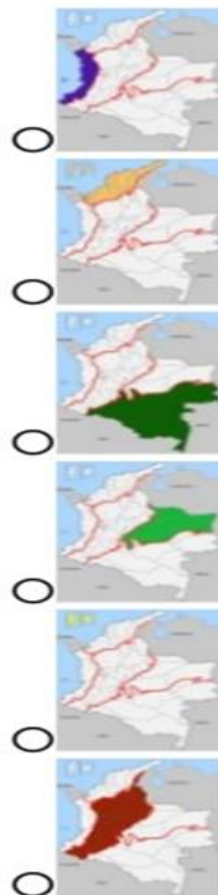
Occidente de Colombia

⑤ REGION ORINOQUIA

Sur de Colombia

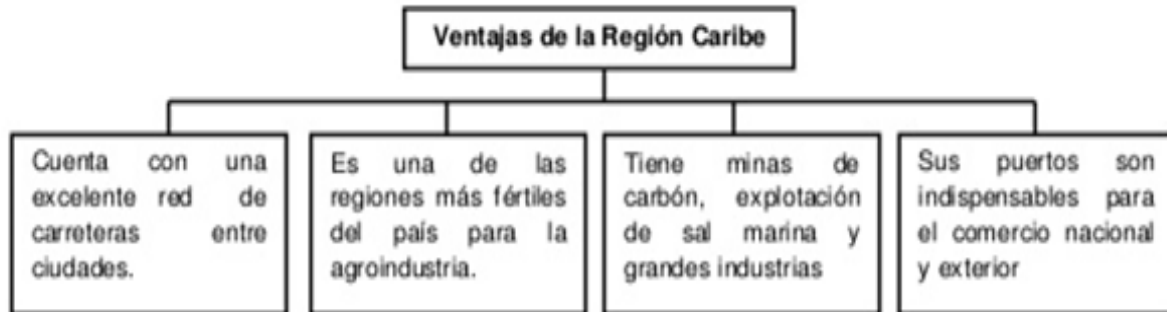
⑥ REGION CARIBE

Océano Pacífico y Caribe



LECTIVO 2020
GUÍA DE APRENDIZAJE

5- Lea el cuadro de conceptos y determine la verdad (V) o falsedad (F) de las afirmaciones que se plantean a continuación.



- a- La región Caribe no tiene vías de transporte entre las diferentes poblaciones.
- b- Las tierras de la región Caribe son de las más fértiles de Colombia.
- c- Un aporte a la economía colombiana son los puertos de la región Caribe.
- d- En la región Caribe hay ausencia de recursos minerales de importancia.

● Complete cada uno de los siguientes textos. Ayúdese con las palabras que encuentra en el arpa.

La _____ de la _____ se caracteriza por ser una gran _____ de clima tropical, cuyos terrenos se han _____ para el _____ de la agricultura y de la _____, actividades que se desarrollan de manera _____.



● Complemente la información del tema en el cuaderno con las siguientes actividades:

- a- Busque información sobre la importancia de la selva chocoana para la vida de nuestro planeta.
- b- Escriba las ventajas que tiene para Colombia tener una región como la Pacífica.
- c- En diferentes fuentes como Internet o libros de Geografía de Colombia, busque información sobre la explotación de oro en el Pacífico de Colombia. Explique su importancia.



LECTIVO 2020
GUÍA DE APRENDIZAJE

Encuentra en la sopa de letras los nombre de los departamentos, capitales y ríos de la Región del Amazonas.

REGION DE LA AMAZONIA

| | | | | | | | | | | | | | | | | | | | |
|---|---|---|---|---|---|---|---|---|---|---|---|---|---|---|---|---|---|---|---|
| N | V | M | K | S | Z | P | J | S | T | W | E | H | G | Q | H | D | J | D | M |
| G | H | A | P | N | O | T | I | Q | E | P | M | I | K | A | E | Y | I | M | K |
| W | F | T | M | J | F | Y | Ñ | W | D | I | F | F | G | U | X | K | A | S | U |
| J | E | E | G | Z | Z | F | L | O | R | E | N | C | I | A | Ñ | X | D | D | Y |
| A | L | U | W | O | G | J | K | D | A | I | N | I | A | U | G | O | I | R | A |
| X | T | Q | A | K | U | M | P | V | D | U | H | J | R | R | R | A | R | I | P |
| X | E | A | M | O | Y | A | M | U | T | U | P | O | I | R | H | A | I | O | U |
| H | Q | C | A | R | D | N | H | Z | S | J | B | H | K | B | S | B | N | O | E |
| V | G | F | Z | U | C | A | T | E | U | Q | A | C | O | I | R | V | I | V | R |
| S | I | R | O | G | V | A | U | P | E | S | A | I | K | E | I | V | O | Q | T |
| F | U | Ñ | N | F | V | O | P | R | I | O | A | P | A | P | O | R | I | S | O |
| J | E | J | A | N | A | L | W | S | H | Q | F | A | A | Q | G | L | R | U | N |
| R | T | W | S | N | A | U | G | A | C | O | I | R | M | O | U | K | E | M | I |
| X | E | X | C | Q | K | R | I | O | A | M | A | Z | O | N | A | S | E | H | N |
| E | Z | S | D | M | A | W | Y | X | A | I | N | A | U | G | V | B | Y | Y | I |
| C | H | Ñ | X | O | Q | P | V | L | M | I | T | U | Z | W | I | Q | L | S | R |
| Z | X | A | I | C | I | T | E | L | A | G | O | U | C | Z | A | Q | H | K | I |
| G | H | V | C | O | P | A | B | A | T | A | O | I | R | H | R | G | X | T | D |
| Z | I | Y | C | A | O | I | H | G | U | A | V | I | A | R | E | R | R | G | A |
| E | C | Ñ | V | R | P | X | Q | M | Z | A | D | P | U | T | U | M | A | Y | O |

AMAZONAS
 CAQUETA
 FLORENCIA
 GUANIA
 GUAVIARE
 LETICIA
 MITU
 MOCHA
 PUERTONINIRIDA
 PUTUMAYO
 RIOAMAZONAS
 RIOAPAPORIS
 RIOATABAPO
 RIOCAGUAN
 RIOCAQUETA
 RIOGUAINIA
 RIOGUAVIARE
 RIOINIRIDA
 RIOPUTUMAYO
 VAUPES

Encuentre en la sopa de letras los nombres de los departamentos , las subregiones y ríos de la región de la Orinoquía.

REGION DE LA ORINOQUIA

| | | | | | | | | | | | | | | | | | | | |
|---|---|---|---|---|---|---|---|---|---|---|---|---|---|---|---|---|---|---|---|
| B | D | L | O | O | A | B | S | G | D | A | I | J | O | P | Y | Y | U | T | W |
| W | L | T | Q | U | Ñ | E | V | P | T | C | F | V | C | M | Y | G | M | Ñ | X |
| O | X | P | A | V | T | H | S | Ñ | M | X | S | M | O | Ñ | Y | R | F | F | Z |
| P | M | O | G | N | N | D | L | V | M | S | F | I | N | Q | C | M | Y | Y | F |
| J | M | C | R | Q | A | V | M | A | D | C | O | F | I | J | K | S | D | L | Y |
| Q | H | Q | Y | U | T | A | H | C | U | Z | Y | J | R | Z | R | B | N | E | N |
| E | Q | X | F | Ñ | E | J | Q | U | I | N | A | L | O | U | M | Ñ | M | T | K |
| S | W | O | Q | A | M | R | G | A | Q | X | C | A | O | X | J | C | D | R | V |
| P | H | E | E | U | J | Ñ | I | R | D | W | A | C | I | T | T | A | Q | A | Z |
| E | L | Y | O | F | F | N | L | A | K | O | R | E | R | W | H | S | O | I | X |
| W | Z | O | U | K | Ñ | C | H | O | Ñ | W | A | Q | X | I | I | A | E | V | D |
| A | C | P | F | Ñ | T | G | J | I | S | Q | U | L | B | A | N | N | L | A | Z |
| C | A | A | K | D | Y | G | F | R | Ñ | V | C | C | E | U | Ñ | A | K | U | C |
| O | E | Ñ | O | Y | L | S | S | A | Ñ | R | A | N | W | X | A | R | W | G | Ñ |
| E | E | I | B | P | P | V | Ñ | L | N | W | P | L | J | X | V | E | L | O | Q |
| A | R | I | O | M | E | T | A | U | S | N | O | Z | D | J | Z | H | A | I | N |
| A | H | R | B | F | X | K | E | V | L | I | P | B | R | W | S | U | I | R | O |
| Z | H | B | O | V | A | T | E | M | L | E | D | S | A | R | U | N | A | L | L |
| Ñ | C | T | K | I | T | K | V | I | E | V | I | C | H | A | D | A | Ñ | K | I |
| A | D | E | R | A | N | A | S | A | C | O | I | R | D | H | K | P | C | B | M |



LECTIVO 2020
GUÍA DE APRENDIZAJE

5- Observe y analice las fotografías. Desarrolle las actividades que se plantean a continuación.



6. ¿En que condiciones viven las personas de la región Pacífica?.

¿Cómo se podrían mejorar la vida en esta región?

7- Organice un viaje a la selva del Pacífico colombiano y tenga en cuenta los siguientes aspectos: Escríbalos en el cuaderno

- a- ¿Qué va a hacer allí?.....
- b- ¿Qué vestuario debe llevar?.....
- c- ¿Cómo debe manejar las basuras en el paseo?.....
- d- ¿Qué pueden aprender de los habitantes del Pacífico?.....

8- Relacione la información de la región Pacífica con la foto que lo ilustra con un trazo.

Las condiciones sociales de la región pacífica se reflejan en la pobreza de la mayor parte de sus pobladores y las limitaciones de acceso a los servicios públicos, de salud, educación y recreación.

Una de las mayores reservas ecológicas del país y del mundo se encuentra en el pacífico.

La región del Pacífico es una de las más ricas en minas de oro y platino. La mayoría de los habitantes ubicados en las zonas mineras utilizan métodos artesanales para su extracción.

La región Pacífica de Colombia tiene un potencial de desarrollo representado en sus costas. Ellas pueden ser importantes lugares para el ecoturismo; sus condiciones geográficas permiten la creación de grandes puertos.

Los caudalosos ríos del Pacífico se han convertido en ejes de desarrollo. Por ellos transitan la mayoría de productos y mercancías necesarias para la subsistencia de sus habitantes.





LECTIVO 2020
GUÍA DE APRENDIZAJE

Una con líneas las columnas y descubra la redacción correcta.

| | | | |
|--|--------------------------|--------------------------|---|
| En la región Andina de Colombia hay dos grandes zonas planas con tierras fértiles utilizadas en la agricultura y la ganadería. Dichas zonas son... | <input type="checkbox"/> | <input type="checkbox"/> | Más competitiva |
| En la región Andina se concentra la mayor cantidad de la población colombiana. En la actualidad dicha población se ubica en ... | <input type="checkbox"/> | <input type="checkbox"/> | Los páramos y los nevados |
| La diversidad de paisajes de la región Andina favorece el desarrollo de culturas y tradiciones que se manifiestan en... | <input type="checkbox"/> | <input type="checkbox"/> | Los valles de los ríos Cauca y Magdalena |
| Por más de un siglo, el café fue el principal producto de Colombia. En la región Andina, dicho cultivo hizo grandes aportes a... | <input type="checkbox"/> | <input type="checkbox"/> | Las principales ciudades de la región. |
| En la actualidad, es indispensable que haya un buen desarrollo vial y de redes de comunicación en la región Andina para que sea... | <input type="checkbox"/> | <input type="checkbox"/> | El centro del país. |
| En la región Andina, las zonas que más se deben cuidar debido a la situación de reservas de recursos hídricos, de fauna y flora son... | <input type="checkbox"/> | <input type="checkbox"/> | La variedad de fiestas tradicionales y folclor. |
| A través de la historia, la región Andina se ha caracterizado por haber tomado una posición de mando, favorecida por estar ubicada en... | <input type="checkbox"/> | <input type="checkbox"/> | Su economía |

EVALUACIÓN (Apóyate en el libro)

1. ¿Localiza en el mapa de Colombia las cordilleras andinas y los ríos que la recorren
2. Explica porque en la región andina hay tanta variedad de climas
3. ¿Cuáles son los principales productos agrícolas e industriales de la región andina?
4. explica las razones que hacen de la región andina la más poblada del país
5. ¿Cuál es el río más contaminado de la región andina y como afecta al país esa contaminación?
6. Reflexiona sobre los siguientes enunciados y escribe tu reflexión
 - A. la pobreza en la región andina solo afecta algunos departamentos
 - B. los desplazados llegan a la capital, donde encuentran mejores oportunidades de vida
 - C. el deterioro ambiental es la consecuencia del desarrollo de la población, por lo tanto, hay que frenar el desarrollo para evitar los daños ambientales.
7. Selecciona un lugar de la región caribe que tenga atractivos turísticos. Elabora un afiche para promover el turismo en dicho lugar.



LECTIVO 2020
GUÍA DE APRENDIZAJE

8. En tu opinión, ¿cuál es el problema ambiental más grave de la región caribe? ¿por qué?
9. Nombra las principales celebraciones de la región caribe
10. Explica como es el clima de la Orinoquia.
11. ¿Explica porque la ganadería, es la principal actividad económica de la región de la Orinoquia?
12. Analiza las siguientes afirmaciones:
 - a. Los ríos de la Orinoquia son muy importantes para los habitantes de la región
 - b. La Orinoquia tiene poco desarrollo industrial
 - c. A pesar de las riquezas naturales, la población de la Orinoquia es muy pobre.
13. ¿Cuál es el sector de la economía más importante de la región del pacifico?
14. presenta argumentos que justifiquen las siguientes afirmaciones:
 - la pesca y la explotación forestal son importantes actividades económicas de la región del pacifico
 - gran parte de la población de la región del pacifico tiene problemas para satisfacer sus necesidades básicas
 - la explotación forestal y minera generan problemas ambientales en la región del pacifico
15. ¿Cuáles son las principales actividades económicas de la región de la amazonia?
16. reflexione sobre las siguientes afirmaciones:
 - las selvas de la amazonia colombiana y las comunidades indígenas se ven afectadas por los colonos y por los cultivos ilícitos
 - las selvas no son aptas para la agricultura, por lo tanto, los habitantes de la amazonia tienen que dedicarse a los cultivos ilícitos
 - las guacamayas deberían adornar las ciudades con su colorido y belleza, en vez de permanecer solas en la selva.
 - una alternativa a la pobreza son los cultivos ilícitos, pues no existe otra fuente de ingresos para los habitantes de la selva.

Apóyate en el libro, los mapas conceptuales de la guía y los mapas de las regiones anexos a continuación.

Que se note
que eres inteligente.

No por tu ropa
o tu calzado
sino por como
usas tu cabeza.

Contemporáneas



INSTITUCIÓN EDUCATIVA
"INSTITUTO TÉCNICO"

Santander de Quilichao, Cauca

LECTIVO 2020

GUÍA DE APRENDIZAJE

6- Las siguientes fotos muestran cinco paisajes de la región Andina: Paisaje de Páramo; Paisaje de Valle interandino; Paisaje de montaña; Paisaje de nevado; Paisaje Urbano. Escriba frente a cada foto el tipo de paisaje a que corresponde.



PREGUNTAS ESENCIALES

PREGUNTAS ESENCIALES

1. ¿Qué es una región geográfica
2. ¿Cuáles son las regiones geográficas de Colombia?
3. ¿Cuál es la importancia que tienen estas regiones?

EVIDENCIAS DE APRENDIZAJE (INDICADORES DE DESEMPEÑO)

Identifica lo que es una región geográfica
Identifica las regiones geográficas de Colombia
Analiza la importancia económica de cada región

RECURSOS

Libro. Soluciones escolares 4, - cuadernos, internet

CRITERIOS DE ENTREGA

A través del correo electrónico institucional o a través del WhatsApp.

TEMAS DE CONSULTA PARA AFIANZAMIENTO Y/O PROFUNDIZACIÓN

<https://es.slideshare.net/nick98/soc4ii13>

REFERENCIAS BIBLIOGRÁFICAS (BIOGRAFÍA Y/O WEBGRAFÍA)

<https://es.slideshare.net/nick98/soc4ii13>

<https://atlasgeografico.net/wp-content/uploads/2013/05/image15.png>

https://es.wikipedia.org/wiki/Departamentos_de_Colombia

Libro. Soluciones escolares 4

LECTIVO 2020
GUÍA DE APRENDIZAJE

REGION DEL CARIBE



REGION ANDINA



REGION INSULAR



SAN ANDRES, PROVIDENCIA Y SANTA CATALINA

REGION DEL PACIFICO



LECTIVO 2020
GUÍA DE APRENDIZAJE

REGION DE LA ORINOQUIA



REGION DE LA AMAZONIA



Identifica en los mapas, los departamentos que conforman cada una de las regiones de Colombia y con ayuda del mapa de la hidrografía colombiana, los ríos más importantes que atraviesan cada una de ellas.



LECTIVO 2020
GUÍA DE APRENDIZAJE

