



INSTITUCIÓN EDUCATIVA
"INSTITUTO TÉCNICO"

Santander de Quilichao, Cauca

LECTIVO 2020
GUÍA DE APRENDIZAJE

SEDE	Rafael Tello	PERIODO	
ESTUDIANTE		GRUPO	GUÍA No 3
ÁREA	Matemáticas - Artística	JORNADA	
DOCENTE	Adíela Tegue - Lizeth Papamija- Stella López	FECHA	
TIEMPO DE DESARROLLO	Del 16 de junio Hasta el 21 de Julio	DURACIÓN	20 horas

METAS DE APRENDIZAJE

Evidencia la apropiación de un sistema de notación arábigo y la intención de comunicar cantidades por medio de un sistema diferente a las palabras.

EJES TEMÁTICOS

- Cuantificación y principios de conteo.
- Establecimiento de relación de orden.

CONCEPTOS BÁSICOS

- Números naturales del 0 al 9.
- Relación de cantidad y número.

PREGUNTAS ESENCIALES

- ¿En dónde encontramos figuras u objetos en forma de cuadrado?
- ¿Qué número es este? ¿Cuenta cuantos elementos hay?

EVIDENCIAS DE APRENDIZAJE (INDICADORES DE DESEMPEÑO)

- Realiza composiciones con figuras geométricas
- Reconoce y representa los números del 0 al 9.
- Realiza conteo estableciendo relación uno a uno.

ACTIVIDADES

- | | | |
|--------------------|---|---|
| Actividad 1 | -Decorar los números del 0 al 9
-Repintar los números. | -Utilizar material del medio para dibujar y decorar los números del 0 al 9
- Transcribir en el cuaderno los números del 0 al 9 |
| Actividad 2 | Dibuja en cada dado cuantos puntos como elementos tiene a su lado.
Encierra con un circulo el número correspondiente a la cantidad de elementos.
Colorea según el número. | |

RECURSOS

Material del medio. (lápiz, colores, tapitas tijeras, piedritas). Y fotocopias.

CRITERIOS DE ENTREGA

Según el tiempo estipulado por los administrativos se enviarán las actividades por registro fotográfico vía WhatsApp, o en medio físico sino cuenta con los recursos necesarios.



INSTITUCIÓN EDUCATIVA
"INSTITUTO TÉCNICO"

Santander de Quilichao, Cauca

LECTIVO 2020
GUÍA DE APRENDIZAJE

EVALUACIÓN

Se evaluará mediante el cumplimiento y desarrollo de las actividades.

REFERENCIAS BIBLIOGRÁFICAS (BIOGRAFÍA Y/O WEBGRAFÍA)

<https://www.youtube.com/watch?v=l004AH0UIYk>

<https://images.app.goo.gl/bRh3KqHr6>

[https://www.edufichas.com/descargas/cuadernillo-de-los-numeros/
numero-dado-cantidad.html](https://www.edufichas.com/descargas/cuadernillo-de-los-numeros/numero-dado-cantidad.html)

<https://www.youtube.com/watch?v=2BRdh1mQsT0>

<https://alumnoon.com/preescolar/actividades.php?c=607>

<http://reinounidosusanaybea.blogspot.com/2018/11/unir->

ACTIVIDAD 1.




En casa con ayuda de papá y mamá debes profundizar en el reconocimiento del número, la escritura y su relación al contar diferentes elementos.



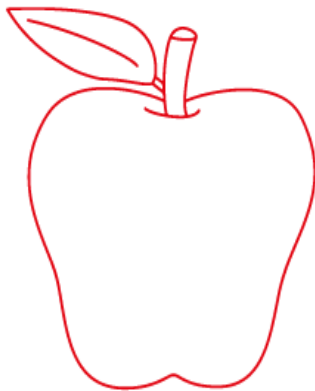

Los números del 0 al 9

1			6		
2			7		
3			8		
4			9		
5			10		



INSTITUCIÓN EDUCATIVA
"INSTITUTO TÉCNICO"
Santander de Quilichao, Cauca

LECTIVO 2020
GUÍA DE APRENDIZAJE




Cuadernillo 2 - Preescolar

© www.materialdeaprendiz

Cuadernillo 3 - Preescolar

© www.materialdeaprendizaje.com

Colorea el numero 1 de color amarillo y el numero 2 de color azul



INSTITUCIÓN EDUCATIVA
"INSTITUTO TÉCNICO"
Santander de Quilichao, Cauca

LECTIVO 2020
GUÍA DE APRENDIZAJE



Cuadernillo 2 - Preescolar

© www.materialdeaprendizaje.com

Repasa, colorea y reliza el trazo del numero 1



INSTITUCIÓN EDUCATIVA
"INSTITUTO TÉCNICO"


Santander de Quilichao, Cauca

LECTIVO 2020


GUÍA DE APRENDIZAJE



DOS



NUMERO DOS. REPASAR CON ROTULADOR



INSTITUCIÓN EDUCATIVA
"INSTITUTO TÉCNICO"




Santander de Quilichao, Cauca


LECTIVO 2020

GUÍA DE APRENDIZAJE



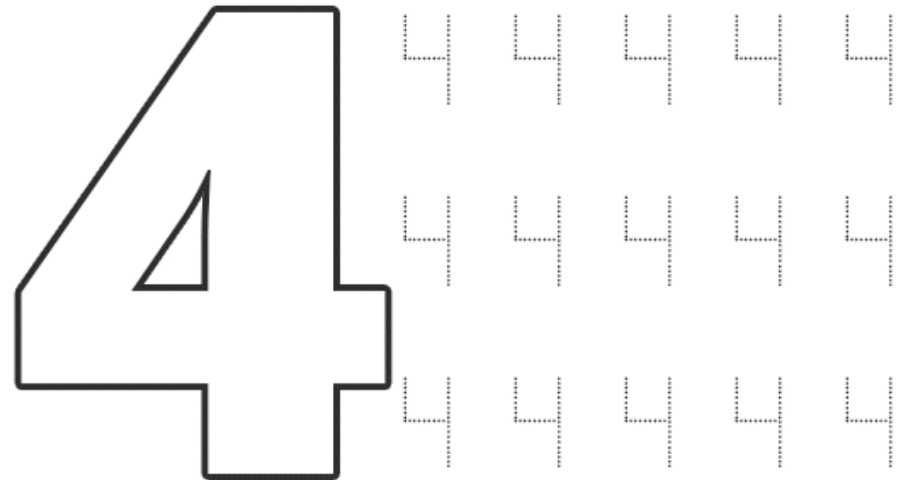



Repasa con rotulador el número 3





LECTIVO 2020
GUÍA DE APRENDIZAJE

Los números




Cuenta, colorea y realiza el trazo



LECTIVO 2020
GUÍA DE APRENDIZAJE

Decora con plastilina las flores y el cuatro, une los puntos para formar el número 4.



LECTIVO 2020
GUÍA DE APRENDIZAJE

Pégale bolitas de papel para
empezar a conocer el número

cinco

-Deberes.net

Encuentra más fichas y recursos educativos en DEBERES.NET

Realiza el trazo del numero

5




INSTITUCIÓN EDUCATIVA
"INSTITUTO TÉCNICO"

Santander de Quilichao, Cauca


LECTIVO 2020
GUÍA DE APRENDIZAJE



Repasa los siguientes números



siete




<http://www.imageneseducativas.com/>

Repasa los siguientes números



ocho





INSTITUCIÓN EDUCATIVA
"INSTITUTO TÉCNICO"
Santander de Quilichao, Cauca

LECTIVO 2020
GUÍA DE APRENDIZAJE

ocho



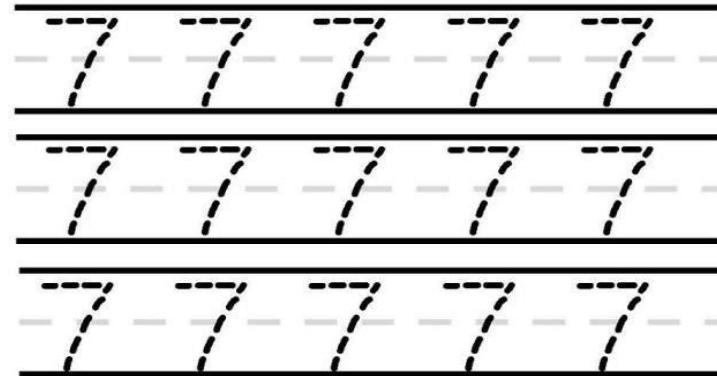
LECTIVO 2020
GUÍA DE APRENDIZAJE

Traza




Siete


Remarca




Cuenta




Colorea 7





LECTIVO 2020
GUÍA DE APRENDIZAJE


www.edufichas.com




Los números



Dibuja 9 flores en la barriguita del del cero.





















nueve





LECTIVO 2020
GUÍA DE APRENDIZAJE

	<table border="1"><tr><td>4</td></tr><tr><td>5</td></tr><tr><td>6</td></tr><tr><td>7</td></tr><tr><td>8</td></tr><tr><td>9</td></tr><tr><td>10</td></tr></table>	4	5	6	7	8	9	10		
4										
5										
6										
7										
8										
9										
10										
		 <input type="checkbox"/>	 <input type="checkbox"/>	 <input type="checkbox"/>						
		 <input type="checkbox"/>	 <input type="checkbox"/>	 <input type="checkbox"/>						
		 <input type="checkbox"/>	 <input type="checkbox"/>	 <input type="checkbox"/>						

cuenta y relaciona



cuenta y escribe el número



Número 0

Capacidad: Reconoce que debe usar el número 0 cuando no hay elementos.

1. Traza el número 0; luego, colorea las macetas vacías y completa el cuadro:






LECTIVO 2020
GUÍA DE APRENDIZAJE

ACTIVIDAD 3


Cuenta y encierra el número de elementos que tiene cada figura




1 2 3 4 5 6



1 2 3 4 5 6




1 2 3 4 5 6



1 2 3 4 5 6



1 2 3 4 5 6



1 2 3 4 5 6




ACTIVIDAD: COLOREA CON NÚMEROS

Nombre:

Fecha:


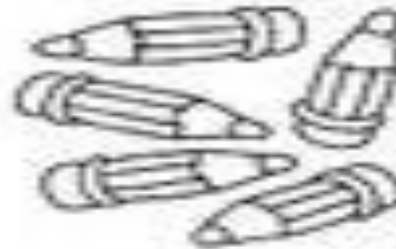
Colorea según los números:






LECTIVO 2020
GUÍA DE APRENDIZAJE

Cuenta y escribe el número correspondiente en el cuadrado





Cuántos hay



Rodea el número correcto:

4	1	3

2	4	5

6	7	5

7	8	9

9	7	6

3	6	5

ACTIVIDAD: COLOREA CON NÚMEROS

Nombre: _____
Fecha: _____

Colorea según los números:

1	2	3	4	5	6