



LECTIVO 2020
GUÍA DE APRENDIZAJE

SEDE	Rafael Tello	PERIODO	2		
ESTUDIANTE		GRUPO	T A, B, C	GUÍA No	4
ÁREA	Matemáticas y artística	JORNADA	Mañana		
DOCENTE	Adiela Tegue, Stella López y Lizeth Papamija.	FECHA	Agosto		
TIEMPO DE DESARROLLO	Del 3 agosto al 11 de septiembre de 2020		DURACIÓN	39 días	

METAS DE APRENDIZAJE

Resuelve problemas sencillos, teniendo en cuenta el enfoque resolución del problema.

EJES TEMATICOS

Planteamiento y resolución de problemas sencillos con la suma y la resta.
Reconocimiento de los números del 1 al 10 en inglés.

CONCEPTOS BÁSICOS

- Sumas, y restas sencillas
- Distinguir las diferencias entre la resta y la suma.
- Aprender los números en ingles del 1 al 10.

PREGUNTAS ESENCIALES

¿Sabes contar?, ¿sabes sumar?, ¿sabes restar?
¿Qué es y para qué sirven la suma en tu vida diaria?
¿En qué momentos de nuestra vida utilizamos la resta?
¿Sabes los números en inglés?

EVIDENCIAS DE APRENDIZAJE (INDICADORES DE DESEMPEÑO)

Resuelve problemas sencillos teniendo en cuenta el enfoque resolución de problemas.
Calcula sumas y restas con números menores o iguales a10 aplicando el sentido de agrupación.
Reconocer e identificar los números del 1 al 10 en inglés.

ACTIVIDADES

- Actividad 1** Para los niños que tengan la Video <https://www.youtube.com/watch?v=lgTHXU0AS->
(Ejercicios de sumas para niños. Aprende a sumar con Dino.
Resolver problemas de sumas sencillos.
- Actividad 2** Restas sencillas.
- Actividad 3** Reconocer los números en inglés del 1 al 10

RECURSOS

Material del medio, (piedritas, palitos de helado hojas elementos del hogar etc.), fotocopias de las guías, computador o celular para quienes tienen acceso.

CRITERIOS DE ENTREGA

Según el tiempo estipulado por los administrativos se enviarán las actividades por registro fotográficos a través del correo Institucional o si desea hacer entrega física de la guía, recuerde que se debe dejarla en la papelería Punto Click.

EVALUACIÓN

Se evaluará mediante el cumplimiento y el desarrollo de las actividades.

TEMAS DE CONSULTA PARA AFIANZAMIENTO Y/O PROFUNDIZACIÓN



INSTITUCIÓN EDUCATIVA
"INSTITUTO TÉCNICO"

Santander de Quilichao, Cauca

LECTIVO 2020
GUÍA DE APRENDIZAJE

REFERENCIAS BIBLIOGRÁFICAS (BIOGRAFÍA Y/O WEBGRAFÍA)

<https://www.youtube.com/watch?v=lgTHXU0AS->

<https://www.youtube.com/watch?v=mZQQtcw1Uww>

<https://www.youtube.com/watch?v=oPGB4DI0iu4>

<https://www.youtube.com/watch?v=b02Ojls1O14>

<https://www.youtube.com/watch?v=lgTHXU0AS->

<https://www.youtube.com/watch?v=mZQQtcw1Uww>


<https://www.youtube.com/watch?v=oPGB4DI0iu4>

<https://www.youtube.com/watch?v=b02Ojls1O14>

<https://www.pinterest.es/pin/648518415075297915/>

<https://es.dreamstime.com/aprendizaje-de-n%C3%BAmeros-matem%C3%A1ticas-con-los-fingeres-la-mano-tarjetas-destello-image124031200>

<http://www.materialeseducativosmaestras.com/2020/03/librito-pensamiento-matematico.html>



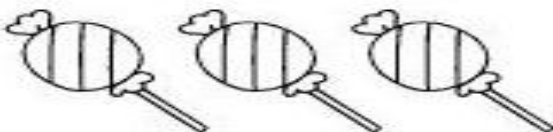
LECTIVO 2020
GUÍA DE APRENDIZAJE

DESARROLLO DE ACTIVIDADES

ACTIVIDAD 1

- Resuelve los siguientes problemas con ayuda de un familiar, utiliza tus manitos, palitos o lo que tengas para contar.

Carlitos está feliz porque su papá le regaló 3 caramelos,




y su mamá le compró 5 más



¿Cuántos caramelos tiene ahora?

$$\square + \square = \square$$

A Pipo le fascinan las frutillas.
Su mamá le compró una bolsa con 8 frutillas.




Pipo se comió 5 frutillas de la bolsa.
Tacha las frutillas que se comió.

$$\square - \square = \square$$

Escribe los números y resuelve la operación.
¿Cuántas frutillas le quedaron?

LECTIVO 2020
GUÍA DE APRENDIZAJE

Randy el conejito pintó 6 huevos de Pascua. Luego, le regaló 4 de ellos a su amigo Teddy. ¿Cuántos huevitos le quedaron?



$$\square - \square = \square$$

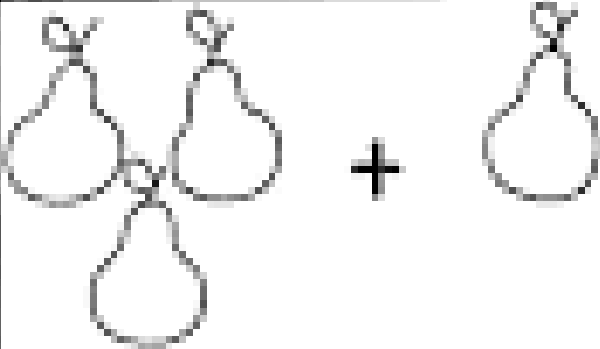
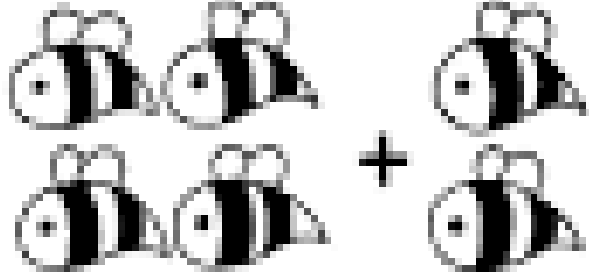
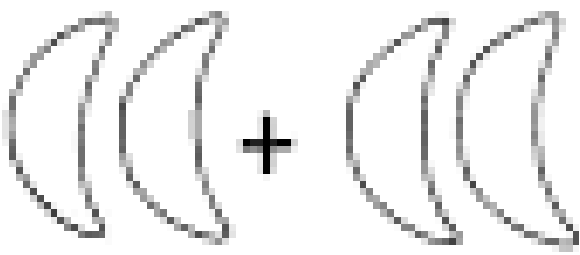
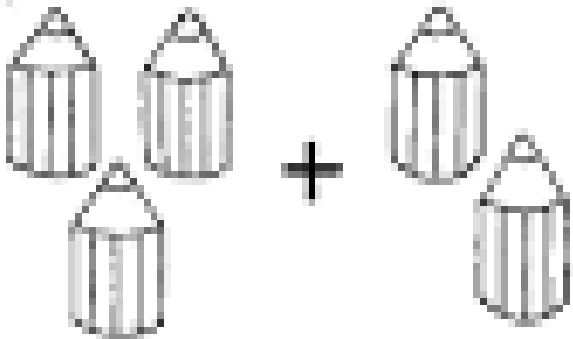
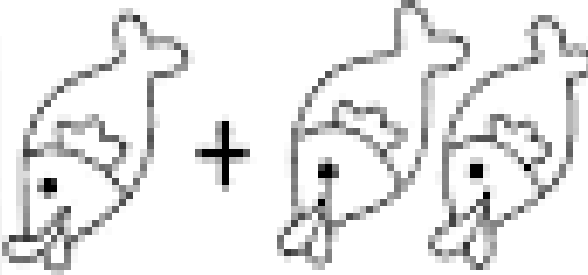
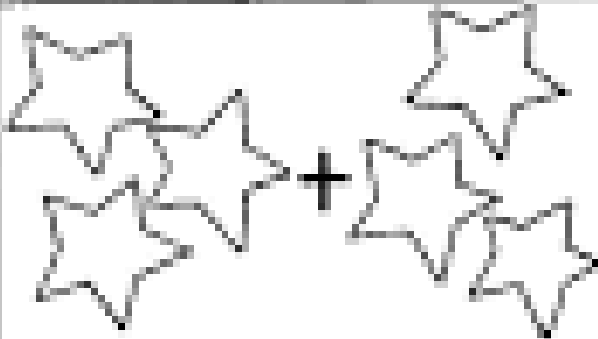
Quantifica los huevos.
 Tacha los huevos que Randy regaló a su amigo.
 Escribe los números y resuelve la resta.



- Colorea y resuelve las operaciones:

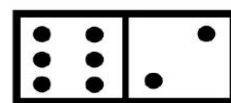
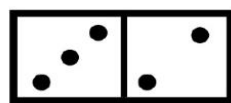
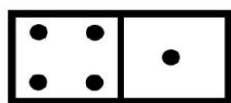

LECTIVO 2020
GUÍA DE APRENDIZAJE

- Colorea los dibujos y escribe el resultado de las sumas.

 $3 + 1 = \cdot$	 $4 + 2 = \cdot$
 $2 + 2 = \cdot$	 $3 + 2 = \cdot$
 $1 + 2 = \cdot$	 $3 + 3 = \cdot$



Resuelve las siguientes sumas:


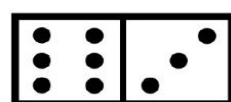




$3+6=\square$

$4+1=\square$

$3+2=\square$

$6+2=\square$



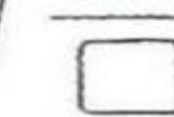

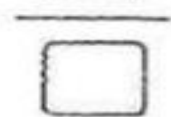

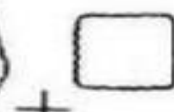
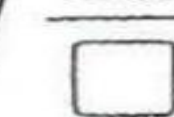

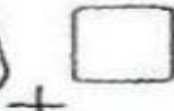

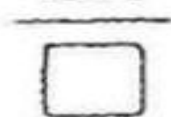

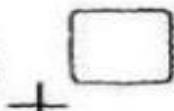
$3+6=\square$

$3+4=\square$

$6+3=\square$

$1+6=\square$

9. REALIZAR LA SUMA VERTICAL CON LOS PUNTOS DEL DOMINO





LECTIVO 2020
GUÍA DE APRENDIZAJE

Con la colaboración de un familiar, sumar y si mi respuesta es

3 pinto de color azul celeste o claro.


4 pinto de color marrón o café.

5 pinto de color verde.

6 pinto de color amarillo.

7 pinto de color azul oscuro.

8 pinto de color rosa.





LECTIVO 2020
GUÍA DE APRENDIZAJE

ACTIVIDAD 2



Ulises compró u frutas.

Tocha el número de frutas que compró



Si se comió frutas

Tocha la cantidad de frutas que Ulises se comió.

Le quedan solamente o frutas.

Tocha el número de frutas que le quedaron a Ulises.

LECTIVO 2020
GUÍA DE APRENDIZAJE

- Resuelve pequeñas restas.

$4 - 3 =$


$9 - 2 =$

$5 - 3 =$

$3 - 1 =$

$8 - 4 =$

$7 - 5 =$



1 2 3 4 5 6 7



- Pinta los resultados así:

1. Verde manzana 2. Café 3 fucsia 4. Amarillo 5. Azul 6. Rojo 7 Verde



ACTIVIDAD3

1

ONE

2

TWO

3

THREE

4

FOUR

5

FIVE

6

SIX

7

SEVEN

8

EIGHT

9

NINE

10

TEN

NUMERO EN INGLÉS

PRONUNCIACIÓN

1	one
2	two
3	three
4	four
5	five
6	six
7	seven
8	eight
9	nine
10	ten

uan
tuu
zrii
foar
faiv
sics
seven
eigt
náin
ten



RELACIONA CADA NÚMERO CON SU NOMBRE EN INGLÉS

2

5

1

6

7

4

9

3

8

one

six

four

two

nine

eight

five




seven

three

Números del 1 al 10



Relaciona cada grupo con su número en inglés. Colorea los dibujos.



one

eight

five

nine

two



six

ten

four

three

seven





LECTIVO 2020
GUÍA DE APRENDIZAJE

- Recortar y pegar el número que corresponda en cada cuadro.

Name

one



two



three



four



five



six



seven



eight



nine



ten



6

2

3

7

9

10

5

1

8

4



CUENTA Y COLOREA



COLOREA LOS PINCELES, DE ACUERDO CON EL COLOR Y NÚMERO QUE SE INDICAN.

2  



3   



1 



5     



4    





LECTIVO 2020
GUÍA DE APRENDIZAJE



VAMOS A CONTAR LOS ANIMALES AFRICANOS

